

## 01 História História Geral

Ano: 2017 Banca: VUNESP Órgão: PM-SPProva: Soldado da Polícia Militar

O fim dos velhos impérios coloniais era previsível e, na verdade, em 1945, considerado iminente na Ásia, mas a futura orientação dos novos Estados pós-coloniais não estava nada clara. Foi nessa área que as duas superpotências continuaram a competir, por apoio e influência, durante toda a Guerra Fria, e por isso a maior zona de atrito entre elas, aquela onde o conflito armado era mais provável, e onde de fato irrompeu. (Eric Hobsbawm, Era dos Extremos: o breve século XX (1914-1991). São Paulo: Companhia das Letras, 1995. Adaptado)

Quanto aos exemplos de conflito entre as duas superpotências, é correto identificar

- a) a Ucrânia, em que os países da OTAN e do Pacto de Varsóvia disputaram o acesso ao Mar Negro, principal via de ligação marítima entre a Ásia Continental e o Mar Mediterrâneo.
- b) o Japão, em que Estados Unidos e União Soviética tentaram controlar os rumos políticos do país após a explosão das bombas atômicas, o que prolongou os conflitos do pós-guerra.
- c) a Índia, em que comunistas e liberais indianos lutaram juntos contra o domínio britânico, mas depois se dividiram em choques internos que levaram à guerra civil no país.
- d) o Paquistão, em que os movimentos de libertação nacional se voltaram para o anti-imperialismo e se aproximaram das lutas revolucionárias anticapitalistas.
- e) a Coreia, em que os coreanos do norte tiveram o apoio do bloco socialista contra os coreanos do sul, apoiados pelos EUA em um violento confronto que durou cerca de três anos.

## 02 História Era Vargas – 1930-1954

Ano: 2017 Banca: VUNESP Órgão: PM-SPProva: Soldado da Polícia Militar

O regresso ao Rio de Janeiro do 1º Escalão da Força Expedicionária Brasileira em 18 de julho de 1945 estava sendo esperado e interpretado como um marco na campanha das forças oposicionistas. O desfile das tropas pelas ruas da cidade seria como uma grande festa da UDN e de seu candidato. (Angela de Castro Gomes, A invenção do trabalhismo. Rio de Janeiro: Editora FGV, 2005. P. 284-285. Adaptado)

O trecho revela um momento importante da crise do Estado Novo associada ao retorno da FEB, que

- a) reforçaria a importância dos militares e da UDN na construção de uma saída negociada para o fim da ditadura, o que levou Getúlio a renunciar e se isolar politicamente, sem estabelecer relação com a cena política que viria a seguir.
- b) ressaltaria o vínculo entre os setores de oposição a Vargas e a participação do Brasil na Segunda Guerra Mundial ao lado dos Aliados, na medida em que Vargas tinha sido favorável à entrada na guerra ao lado do Eixo.
- c) consagraria a vitória da luta pela democracia e a repulsa à ditadura e a seu presidente, evidenciando a contradição entre uma política externa alinhada com os valores democráticos e uma política interna autoritária.
- d) evidenciaria a fraqueza do governo Vargas naquele contexto, dado o fato de que o governo teve poucos recursos para sustentar as tropas na guerra, o que reforçou as sensações de pobreza e precariedade disseminadas à época.
- e) consolidaria a aliança entre as elites civis organizadas na UDN, economicamente intervencionistas e socialmente conservadoras, e os militares recém-saídos da guerra, autoritários e com forte inspiração fascista.

## 03 História História do Brasil

Ano: 2017 Banca: VUNESP Órgão: PM-SPProva: Soldado da Polícia Militar

O processo de descompressão do sistema político começara a ser orquestrado em 1975, pelos generais Ernesto Geisel e Golbery do Couto e Silva, ambos convencidos de que a ditadura deveria fazer suas escolhas e definir o

momento mais conveniente para revogar os poderes de exceção.

(Lilia Schwarcz e Heloisa Starling, *Brasil: uma biografia*. São Paulo: Companhia das Letras, 2015. P. 467. Adaptado)

Tal processo se deu com o objetivo de

- a) manter a oposição longe do Executivo, de modo a garantir que a transição se realizasse de maneira tutelada, restrita aos círculos civis aliados e sem riscos institucionais.
- b) realizar uma abertura política plena, reestabelecendo os direitos políticos e as liberdades civis no tempo mais curto possível, superando a situação autoritária na qual o país se encontrava.
- c) sustentar o bipartidarismo do MDB e da Arena na cena política nacional, impedindo, com isso, a legalização de partidos e grupos políticos mais à esquerda, tais como o Partido Comunista.
- d) efetivar um projeto de institucionalização da ditadura, de tal forma que os poderes de exceção fossem revogados, mas os militares ficassem no poder por tempo indeterminado.
- e) garantir uma abertura política em que os exilados não teriam o direito de voltar ao Brasil, assim como os presos políticos permaneceriam detidos até que se completasse a redemocratização.

#### 04 Geografia Geografia Econômica

Ano: 2017 Banca: VUNESP Órgão: PM-SPP Prova: Soldado da Polícia Militar


Fundada em 1957, por seis países, a União Europeia completa, neste ano de 2017, 60 anos, contando com 28 países membros, embora o Reino Unido esteja em processo de saída do bloco, que é o mais antigo e estruturado do mundo. No entanto, apesar da longevidade e poderio econômico, pode-se citar como um dos problemas enfrentados pela União Europeia

- a) a perda de mercados consumidores devido à concorrência com países emergentes do Brics, como a Índia e a África do Sul.
- b) as diferenças socioeconômicas entre os países membros, o que provoca a forte hegemonia da rica Alemanha sobre vários países.
- c) as políticas sociais atualmente em declínio devido à entrada de imigrantes, principalmente nos antigos países comunistas.
- d) a atual perda de importância econômica e política da moeda única, o Euro, frente a moedas fortes como o dólar e o iene japonês.
- e) a deficiência de recursos naturais, o que gera a necessidade de importações de produtos básicos para a indústria, como o ferro e o carvão.

#### 05 Geografia Geografia Física

Ano: 2017 Banca: VUNESP Órgão: PM-SPP Prova: Soldado da Polícia Militar

A questão está relacionada à imagem e ao texto a seguir.



(<http://sistemasinter.cetesb.sp.gov.br/Ar/anexo.jpg>)

Esse fenômeno atmosférico é comum nos grandes centros urbanos industrializados, principalmente naqueles localizados em áreas cercadas por serras ou montanhas. Esse processo ocorre quando o ar frio (mais denso) é

impedido de circular por uma camada de ar quente (menos denso), dificultando a circulação do ar.

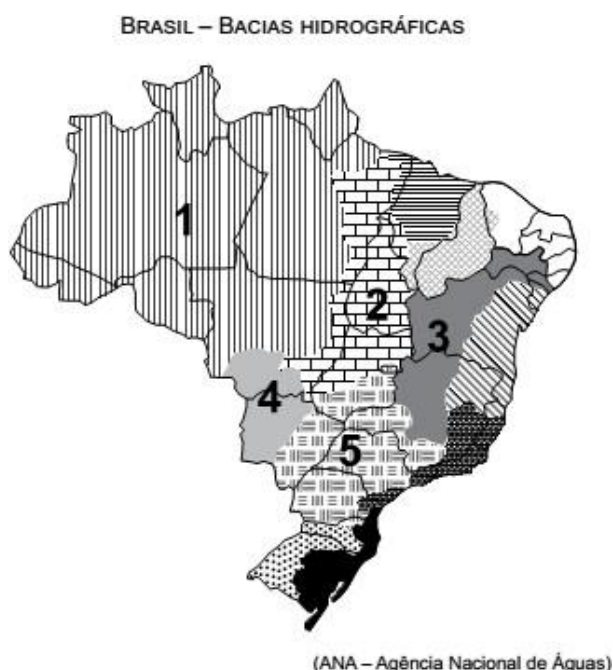
Trata-se

- a) do efeito estufa.
- b) da ilha de calor.
- c) do efeito Coriolis.
- d) da inversão térmica.
- e) do fog.

## 06 Geografia Geografia Física

Ano: 2017 Banca: VUNESP Órgão: PM-SPProva: Soldado da Polícia Militar

A questão está relacionada ao mapa apresentado a seguir.



Assinale a alternativa que identifica corretamente uma das bacias hidrográficas brasileiras.

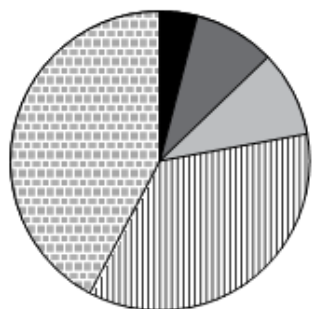
- a) A bacia 2 abrange uma importante reserva de minérios, reconhecida internacionalmente. Como grande parte dos solos da bacia não são férteis, há pequena atividade agrícola, mas, recentemente, observa-se o avanço da pecuária destinada à produção de leite.
- b) A bacia 3 tem grande importância histórica; seu rio principal atravessa área de clima semiárido. A agricultura é uma das mais importantes atividades econômicas, com destaque para a fruticultura. O potencial hidrelétrico da bacia é aproveitado por várias usinas.
- c) A bacia 5 ocupa área com relevo pouco ondulado, o que possibilita a existência de vários rios navegáveis, mas com pequeno potencial hidrelétrico. A área da bacia concentra a maior parte da população nas porções norte e oeste, onde estão as principais cidades.
- d) A bacia 1 destaca-se por apresentar elevada densidade demográfica, fato que provoca impacto ambiental, principalmente nas áreas próximas às áreas metropolitanas; os modernos cultivos de grãos representam a principal utilização dos solos da bacia.
- e) A bacia 4 tem a maior parte de sua área em planaltos, o que possibilita aos rios que a compõem grande potencial hidrelétrico já utilizado por várias usinas. Sob o aspecto econômico, as terras da bacia são utilizadas para cultivos de produtos destinados à exportação.

## 07 Geografia Geografia Econômica

Ano: 2017 Banca: VUNESP Órgão: PM-SPProva: Soldado da Polícia Militar

Observe o gráfico para responder à questão.

BRASIL – GRANDES REGIÕES:  
PARTICIPAÇÃO NA PRODUÇÃO DE "X"



(<http://www.pac.gov.br/pub/up/imagem/acc174ed65a6bacb90f4b4904bad5ccf.jpg> Acesso em 21 set.2017)

A leitura do gráfico e os conhecimentos sobre as atividades econômicas brasileiras permitem afirmar que, no título do gráfico, o "X" deve ser substituído por

- a) grãos.
- b) automóveis.
- c) cana-de-açúcar.
- d) aço.
- e) café.

## 08 História História Geral

Ano: 2017 Banca: VUNESP Órgão: PM-SPProva: Soldado da Polícia Militar

Ao final da Guerra Franco-Prussiana (1870-71), em que o exército francês havia sido derrotado e o imperador Napoleão III, feito prisioneiro, o chanceler da Prússia, Otto von Bismarck, proclamou, em pleno Palácio de Versalhes, a existência do II Reich, o Império Alemão. Quase meio século depois, a França escolheria esse mesmo cenário para a ratificação do Tratado de Versalhes, que extinguiu o Império Alemão, pôs fim à Grande Guerra e, segundo muitos, deu origem à Segunda Guerra Mundial.

(ARARIPE, Luiz de Alencar. "Primeira Guerra Mundial". Em: MAGNOLI, Demétrio (org.). *História das Guerras*. São Paulo: Contexto, 2006. Adaptado)

Entre as tensões relacionadas ao Império Alemão que contribuíram para a eclosão da Primeira Guerra Mundial, é correto identificar

- a) a concorrência militar e industrial com a Inglaterra, as disputas territoriais com a França e as rivalidades com o Império Russo na região dos Bálcãs.
- b) o choque fronteiriço com a União Soviética recém-formada, a disputa de rotas comerciais com o Império Turco-Otomano e o conflito étnico com a Tchecoslováquia.
- c) a disputa com a Áustria-Hungria pelo acesso ao Mediterrâneo, o embate imperialista com a Itália por territórios na África e o problema de fronteira com a Polônia.

- d) as tensões nacionalistas na região dos países bálticos, o conflito com a Bélgica pelo acesso ao mar do Norte e os impasses diplomáticos com a Holanda.
- e) o embate com a Sérvia na fronteira oriental, a disputa territorial com a Suíça ao sul e a concorrência econômica e comercial com os EUA.

## 09 História História Geral

Ano: 2017 Banca: VUNESP Órgão: PM-SPP Prova: Soldado da Polícia Militar

Na Segunda Guerra Mundial, a participação dos Estados Unidos não foi preventiva, mas central, embora existisse uma forte corrente "isolacionista" dentro da classe dominante americana até dezembro de 1941 (ataque japonês a Pearl Harbor), que marcou seu ingresso na guerra.

(COGGIOLA, Osvaldo. "Natureza da Segunda Guerra Mundial". Em: COGGIOLA, Osvaldo (org.).

Segunda Guerra Mundial: um balanço histórico. São Paulo: Xamã, 1995. Adaptado)

Entre os antecedentes que levaram ao confronto entre o Japão e os EUA em 1941, é correto identificar

- a) o tratado secreto de não agressão entre o Japão e a União Soviética, que provocou forte tensão quando descoberto pelos EUA.
- b) a conquista norte-americana do Havaí, arquipélago no Pacífico que até então pertencia ao Japão, o que gerou descontentamento entre os nacionalistas japoneses.
- c) o expansionismo japonês na China e na Indochina, que contribuiu para que os EUA decidissem embargar as importações japonesas de petróleo.
- d) a ação conjunta de China e Japão contra o avanço imperialista dos EUA sobre o Pacífico, o que levou à formação de uma aliança antiocidental.
- e) o ingresso da União Soviética na aliança antifascista formada por França, EUA e Inglaterra, o que gerou desconfiança no Japão anticomunista.

## 10 História História do Brasil

Ano: 2017 Banca: VUNESP Órgão: PM-SPP Prova: Soldado da Polícia Militar

No Brasil, o reconhecimento da necessidade de proteger o patrimônio histórico e artístico já havia sido apontado nos anos 1920, época em que se registraram iniciativas locais e estaduais. Em 1936, Mário de Andrade foi solicitado a preparar a criação de uma instituição nacional de proteção do patrimônio. Foi esse o documento que foi usado nas discussões preliminares sobre a estrutura e os objetivos do SPHAN (Serviço do Patrimônio Histórico e Artístico Nacional), criado afinal por decreto presidencial assinado em 30 de novembro de 1937.

(Centro de Pesquisa e Documentação de História Contemporânea do Brasil da Fundação Getúlio Vargas – CPDOCFGV. A Era Vargas: Diretrizes do Estado Novo 1937-1945 – Serviço do Patrimônio Histórico e Artístico Nacional. Disponível em: <<https://goo.gl/6czzC4>>. Adaptado)

A criação do SPHAN reflete

- a) um momento histórico de preservação e valorização dos patrimônios, símbolos, bandeiras e hinos municipais, regionais e estaduais, com o objetivo de fortalecer as múltiplas identidades a partir das quais se constituiria uma única identidade nacional articulada pelo Estado.
- b) uma perspectiva de cultura nacional autoritária e etnocêntrica que procurava negar e proibir as manifestações das camadas populares, especialmente dos negros, tal como o samba, dando ênfase aos patrimônios monumentais católicos, tais como as igrejas mineiras do barroco.
- c) um ambiente de centralização nas políticas de cultura e educação, o que incluía as questões de identidade e de patrimônio, mas que conviveu, contraditoriamente, com

políticas economicamente liberais, o que levou à entrada de capital estrangeiro na industrialização.

- d) um contexto de (re)construção da identidade nacional a partir de elementos como o patrimônio, que representava a história na preservação de alguns edifícios históricos, evidenciando a parceria entre os intelectuais e o Estado na formulação de importantes políticas públicas.
- e) uma época de consolidação das propostas de preservação do patrimônio baseadas em concepções eurocêntricas, que tomavam a ideia de civilização como referência e consideravam o nacional como cultura inferior, que deveria ser preservada por suas marcas folclóricas.

## 11 História História do Brasil

Ano: 2017 Banca: VUNESP Órgão: PM-SPP Prova: Soldado da Polícia Militar

O processo de descompressão do sistema político começou a ser orquestrado em 1975, pelos generais Ernesto Geisel e Golbery do Couto e Silva, ambos convencidos de que a ditadura deveria fazer suas escolhas e definir o momento mais conveniente para revogar os poderes de exceção. (SCHWARCZ, Lília M. e STARLING, Heloisa. **Brasil: uma biografia**. São Paulo: Companhia das Letras, 2015. Adaptado)

Entre os momentos mais marcantes desse processo, que se iniciou nos anos 1970 e se estendeu até a década seguinte, é correto identificar

- a) o ano de 1985, quando o primeiro presidente civil foi eleito diretamente depois de 21 anos de ditadura, em que apenas militares estiveram no poder.
- b) o ano de 1986, quando os primeiros militares acusados de tortura começaram a ser processados, levados a julgamento e presos posteriormente.
- c) o ano de 1982, quando explodiu um grande movimento de massas favorável às eleições diretas, embalado pelas vitórias da oposição nos governos estaduais.
- d) o biênio 1988-1989, quando foi eleita a Assembleia que escreveu a Constituição, que só entrou em vigor depois do plebiscito sobre a forma de governo de 1993.
- e) o biênio 1978-1979, quando o AI-5 foi extinto, a Lei da Anistia foi promulgada e extinguiu-se o bipartidarismo, passando a haver vários partidos.

## 12 Geografia Geografia Econômica

Ano: 2017 Banca: VUNESP Órgão: PM-SPP Prova: Soldado da Polícia Militar

Considere algumas características dos Brics.

- 40% da população mundial, ou 2,8 bilhões de pessoas, vive no bloco.
- A área geográfica do bloco corresponde a 30% da superfície terrestre.
- A força de trabalho dos países do bloco é de 1,5 bilhão de pessoas.
- Nos países do bloco, as políticas públicas têm obtido avanços na redução da pobreza e na ampliação do acesso aos bens de consumo.
- O bloco responde por 58% da demanda mundial de petróleo e por 20% da produção mundial. (Pragmatismo Político, disponível em: <[goo.gl/06hGG4](http://goo.gl/06hGG4)> . Adaptado)

Os dados apresentados permitem afirmar que os Brics

- a) têm forte influência geopolítica em nível mundial, pois seus membros estão entre os países que mais acolhem refugiados das áreas de conflito do Oriente Médio.
- b) são importantes atores da ordem mundial multipolar, pois a China já é uma força econômica mundial, e a Rússia permanece sendo uma força militar de destaque.
- c) representam o bloco político-econômico mais consolidado do mundo, tendo ultrapassado a União Europeia sob o aspecto demográfico e financeiro.
- d) devem transformar-se, até a próxima década, no bloco mais populoso, pois China, Índia e Rússia são países com elevado crescimento demográfico.
- e) superaram a fase de países emergentes porque apresentam grande potencial econômico e financeiro que atrai investimentos internacionais de grande porte.

### 13 Geografia Geografia Econômica

Ano: 2017 Banca: VUNESP Órgão: PM-SPProva: Soldado da Polícia Militar

De acordo com a ONU, o problema ambiental já afeta 3,6 bilhões de hectares, somando 25% da massa terrestre, e ameaça a subsistência de mais de um bilhão de pessoas em cerca de 110 países. Na região subsaariana da África, por exemplo, de 20% a 50% das terras já apresentam esse problema, prejudicando mais de 200 milhões de pessoas. A situação também é grave na Ásia e na América Latina, somando mais de 516 milhões de hectares, na Austrália, no Oriente Médio e no oeste dos Estados Unidos. Em todo o mundo, a extensão territorial onde ocorre o problema aumentou mais de 50% durante o século 20.

(Planeta, disponível em: <goo.gl/Kb05Bw> . Adaptado)

O texto descreve fatos relacionados

- a) à elevação do nível dos oceanos.
- b) à desertificação.
- c) ao desmatamento.
- d) à atuação do El Niño.
- e) à contaminação dos lençóis freáticos.

### 14 Geografia Geografia Física

Ano: 2017 Banca: VUNESP Órgão: PM-SPProva: Soldado da Polícia Militar

A questão está relacionada ao mapa e ao texto a seguir.



(goo.gl/F1rdbr. Adaptado)

A vegetação original abrangia uma área equivalente a 1315460 km<sup>2</sup> e estendia-se originalmente ao longo de 17 estados. Hoje, restam menos de 10% dessa vegetação.

Vivem na área já desmatada cerca de 70% da população brasileira, com base nas estimativas do Instituto Brasileiro de Geografia e Estatística em 2014. São mais de 145 milhões de habitantes em 3429 municípios, que correspondem a 61% dos existentes no Brasil.

(goo.gl/cRhz24. Adaptado)

O mapa e o texto destacam

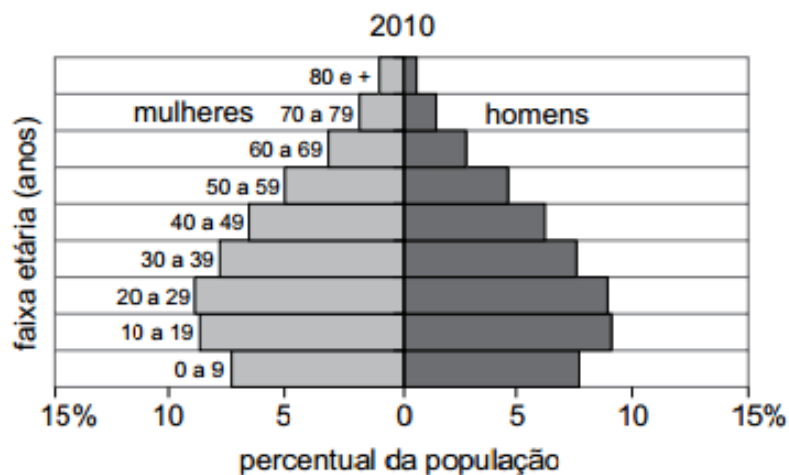
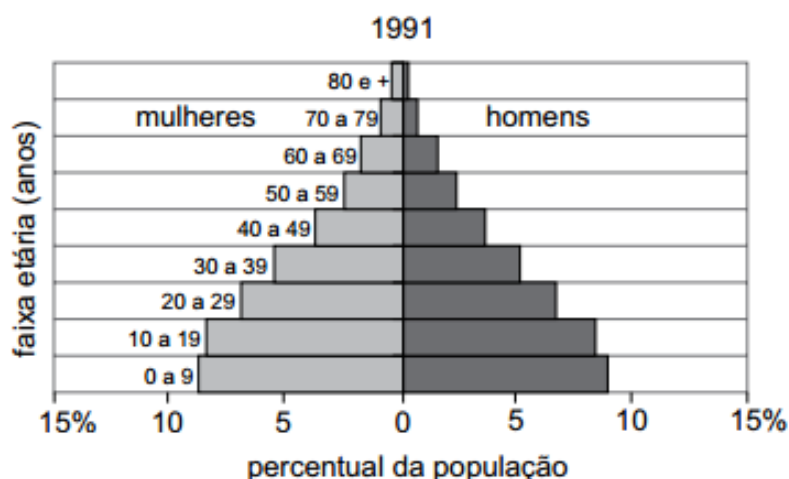
- a) o cerrado.
- b) os campos.
- c) a mata atlântica.
- d) as matas galerias.
- e) a mata de araucárias.

## 15 Geografia População ▶

Ano: 2017 Banca: VUNESP Órgão: PM-SPProva: Soldado da Polícia Militar

Observe as pirâmides etárias:

### BRASIL: PIRÂMIDES ETÁRIAS – 1991 E 2010



(IBGE – Instituto Brasileiro de Geografia e Estatística)

A partir da comparação entre as pirâmides etárias de 1991 e 2010 e dos conhecimentos sobre a dinâmica demográfica brasileira, é correto concluir que, no período,

- a) as taxas de fertilidade e de natalidade apresentaram redução.



- b) as taxas de natalidade e de mortalidade apresentaram pequena variação.
- c) a expectativa de vida da população se manteve alta
- d) a população adulta apresentou declínio.
- e) a proporção de mulheres adultas diminuiu.

## 16 História História Geral

Ano: 2015 Banca: VUNESP Órgão: PM-SPProva: Soldado da Polícia Militar

Mundo lembra 70 anos do fim da Segunda Guerra Mundial

No dia 08 de maio de 2015, ocorreram solenidades em muitos países da Europa relembrando o final da Segunda Guerra Mundial, que durou cerca de 6 anos (1939-1945). Com relação a essa Guerra Mundial, é correto afirmar que

- a) desencadeou inúmeras alianças entre países, como a Tríplice Entente, que unia França, Portugal e Espanha.
- b) foi o estopim para que ocorresse o avanço político- econômico dos países europeus sobre novos territórios africanos.
- c) possibilitou que alguns países europeus, como a Bélgica e a Grécia, desenvolvessem indústrias bélicas.
- d) teve início com o bombardeio da base naval dos Estados Unidos, no Havaí (Pearl Harbor), por aviões japoneses.
- e) envolveu países Aliados de todos os continentes contra os países do Eixo, dentre eles, Alemanha, Itália e Japão.

## 17 História História Geral

Ano: 2015 Banca: VUNESP Órgão: PM-SPProva: Soldado da Polícia Militar

Analise a charge.



(<http://uajev.syscall.ws/img/264689/25-48.jpg>)

A respeito do período de confrontos representado na charge, é correto afirmar que

- a) um dos principais eventos do período foi a extinção de organizações internacionais como a Otan (Organização do Tratado do Atlântico Norte).

- b) o período teve seu apogeu no final da década de 1990, quando os Estados Unidos começaram as invasões do Irã e do Iraque.
- c) o maior embate do período ocorreu quando os países europeus romperam o acordo de paz com os Estados Unidos e fundaram a União Europeia.
- d) o período teve momentos de grande tensão política e ideológica, que envolveram conflitos como a Guerra do Vietnã e a Revolução Cubana.
- e) a disputa teve seu encerramento na década de 1970, quando a então União Soviética aceitou o predomínio espacial estadunidense.

## 18 História História do Brasil

Ano: 2015 Banca: VUNESP Órgão: PM-SPProva: Soldado da Polícia Militar

Analise a imagem, reflita sobre o conteúdo da faixa carregada pelos trabalhadores e assinale a alternativa que completa corretamente o enunciado da questão.



(<http://portaldoprofessor.mec.gov.br/storage/discovirtual/galerias/imagem/0000004586/md.0000048288.jpg>)

O Estado Novo, implantado por Getúlio Vargas em 1937, promoveu mudanças na política e na sociedade brasileira. Uma dessas mudanças foi a

- a) diminuição do intervencionismo do Estado para facilitar o processo de industrialização e a ampliação dos mercados de trabalho e de consumo.
- b) promulgação de reformas na legislação das empresas que reduziam os encargos trabalhistas com o objetivo de ampliar a oferta de empregos.
- c) proibição de instalação de empresas estrangeiras no país para incentivar e proteger a indústria nacional e os trabalhadores brasileiros.
- d) priorização das indústrias como setor principal da economia, o que beneficiou os trabalhadores urbanos em detrimento dos camponeses.
- e) unificação da legislação trabalhista (CLT) que garantia alguns direitos, como a instituição do salário-mínimo, para os trabalhadores brasileiros.

## 19 História História do Brasil

Ano: 2015 Banca: VUNESP Órgão: PM-SPProva: Soldado da Polícia Militar

Ato institucional era o decreto utilizado pelos militares para legitimarem suas decisões. Em dezembro de 1968, ocorreu a promulgação do Ato Institucional no 5 (AI-5) que, em seu preâmbulo, dizia-se ser uma necessidade para atingir os objetivos da revolução, "com vistas a encontrar os meios indispensáveis para a obra de

reconstrução econômica, financeira e moral do país".

O AI-5 foi promulgado no governo de

- a) Costa e Silva e representou o fechamento do sistema político, restringiu drasticamente a cidadania e permitiu a ampliação da repressão policial-militar.
- b) Castello Branco e fixou eleições indiretas para governadores e prefeitos das capitais, acabou com a garantia do habeas corpus e ampliou a repressão policial
- c) João Figueiredo e fechou o Congresso, determinou as regras para a aprovação de nova Constituição e suspendeu os direitos políticos de oposicionistas.
- d) Garrastazu Médiçi e estabeleceu eleições indiretas para os cargos de presidente e governador, extinguiu os partidos políticos e permitiu ao Executivo cassar mandatos de políticos.
- e) Ernesto Geisel e deu ao executivo plenos poderes para cassar mandatos, além de suspender a estabilidade dos funcionários públicos e militares.

## 20 Geografia População

Ano: 2015 Banca: VUNESP Órgão: PM-SPProva: Soldado da Polícia Militar

Leia o texto.

Em resposta aos últimos naufrágios de navios com centenas de imigrantes ilegais, a União Europeia anunciou um pacote de medidas para tentar diminuir a crise humanitária no Mediterrâneo.

Novos pedidos de socorro chegaram na segunda-feira (20.04.15) à Guarda Costeira italiana. Cerca de 400 pessoas neste momento estão em perigo no Mar Mediterrâneo. E quantas outras ainda estarão? É a pergunta dos que protestam nas capitais europeias contra 1,8 mil mortes em menos de quatro meses.

E em menos de uma semana, duas tragédias assustaram o mundo: uma com 400 desaparecidos e a outra com prováveis 900 mortos.

Assinale a alternativa que está diretamente relacionada ao texto.

- a) A imigração ilegal de latino-americanos tem provocado sérios problemas políticos e econômicos à Itália e a outros países da União Europeia.
- b) A globalização tem provocado o crescimento de um movimento demográfico – a imigração – que até o início do século XXI era pouco observado.
- c) As áreas em conflito da África e do Oriente Médio são as que mais têm gerado imigrantes que tentam atingir a Europa em barcos inseguros.
- d) O movimento migratório no mar Mediterrâneo distorce a atual realidade, que tem como ponto central o equilíbrio econômico entre os países do mundo.
- e) A população europeia tem apresentado grande receptividade aos imigrantes, o que significa o fim da xenofobia e dos preconceitos raciais.

## 21 Geografia Geografia Física

Ano: 2015 Banca: VUNESP Órgão: PM-SPProva: Soldado da Polícia Militar

Considere as informações a seguir.

I. É um tipo de fenômeno atmosférico que ocorre devido à presença de gases poluentes (derivados da queima de combustíveis fósseis) misturados com água.

II. Esse fenômeno danifica o solo, as plantas, as construções históricas, os animais marinhos e terrestres etc. podendo, inclusive, exterminar algumas espécies de animais e vegetais. Também provoca a poluição de rios e fontes de água, afetando diretamente a saúde das pessoas com doenças do sistema respiratório.

Essas informações referem-se

- a) à ilha de calor.
- b) à inversão térmica.
- c) ao chorume.
- d) à chuva ácida.
- e) ao efeito estufa.

## 22 Geografia Geografia Física

Ano: 2015 Banca: VUNESP Órgão: PM-SPProva: Soldado da Polícia Militar

Analise o mapa a seguir.



([http://www.geografia.seed.pr.gov.br/modules/galeria/uploads/5/normal\\_1110brasilclimas.jpg](http://www.geografia.seed.pr.gov.br/modules/galeria/uploads/5/normal_1110brasilclimas.jpg). Adaptado)

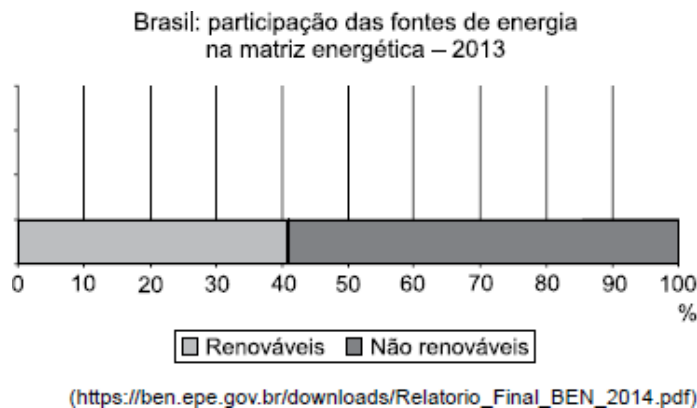
Assinale a alternativa que identifica corretamente o tipo de clima e um problema ecológico frequente em cada uma das áreas numeradas do mapa.

- a) 4 – subtropical – substituição da floresta por cultivos alimentares típicos da agricultura familiar.
- b) 1 – tropical de altitude – forte erosão dos solos provocada pela pecuária bovina extensiva.
- c) 5 – semiárido – rios contaminados pelos agrotóxicos utilizados nos cultivos comerciais.
- d) 2 – tropical – desmatamento do cerrado para cultivos comerciais para exportação.
- e) 3 – equatorial – desmatamento e queimadas para a formação de pastos para o gado de corte.

### 23 Geografia Fontes de energia e recursos naturais

Ano: 2015 Banca: VUNESP Órgão: PM-SPProva: Soldado da Polícia Militar

Analise os dados divulgados pelo Ministério das Minas e Energia apresentados no gráfico a seguir.



A leitura do gráfico e os conhecimentos sobre as fontes de energia no Brasil permitem afirmar que

- a) a redução das chuvas durante o ano de 2013 impediu a hidreletricidade de participar da matriz energética.
- b) a matriz energética brasileira é considerada limpa porque apresenta importante participação das fontes renováveis.
- c) a biomassa e o gás natural são exemplos de fontes de energia renováveis incluídas na matriz energética.
- d) as exportações de etanol para a Europa reduziram a participação das fontes renováveis na matriz energética.
- e) o petróleo deixou de ser incluído entre as fontes de energia não renováveis devido às crises na Petrobras.

### 24 História História Geral

Ano: 2014 Banca: VUNESP Órgão: PM-SPProva: Soldado da Polícia Militar

O período entre guerras (1918-1939) assistiu, na Europa, ao fortalecimento dos regimes nazifascistas. Entre suas características, é correto citar

- a) a garantia do respeito aos direitos individuais e a criação de um culto à imagem do líder.
- b) a ampliação do direito de participação política da população e a economia corporativista.
- c) a existência de uma polícia política para controlar os cidadãos e a extinção da monarquia.
- d) a não intervenção do Estado sobre as questões econômicas e a prática de discriminação racial.
- e) o estabelecimento da censura aos meios de comunicação e o caráter totalitário do Estado.

### 25 História História do Brasil

Ano: 2014 Banca: VUNESP Órgão: PM-SPProva: Soldado da Polícia Militar

No dia 30 de setembro de 1937, os jornais anunciaram a descoberta, pelo Estado-Maior do Exército, de um plano de insurreição comunista atribuído ao Comintern e assinado por um nome judaico: "Cohen". Dia 10 de novembro de 1937: o exército cerca o Palácio Monroe, no Rio, onde funciona o Senado. Com o apoio das armas, Getúlio fecha o Congresso e extingue os partidos políticos.

(Brasil: Nosso Século. Vol. 5, 1930/1945. Adaptado)

Os eventos descritos no texto estão ligados

- a) à repressão desencadeada pelas tropas getulistas contra a tentativa de golpe realizada pelos comunistas da Ação Integralista Brasileira.
- b) à estratégia utilizada por Getúlio Vargas e seus assessores para justificar a implantação do regime ditatorial do Estado Novo.
- c) ao golpe militar que depôs o presidente eleito, Washington Luiz, permitindo que Getúlio Vargas assumisse o governo do Brasil.
- d) aos esforços do então presidente Vargas para resistir às pressões do Congresso Nacional, que exigia sua renúncia ao cargo.
- e) à resposta do governo Vargas frente à Revolução Constitucionalista, em que tropas paulistas se levantaram contra o governo federal.

## 26 História História do Brasil

Ano: 2014 Banca: VUNESP Órgão: PM-SPProva: Soldado da Polícia Militar

A partir de meados da década de 1970, a ditadura militar brasileira iniciou um lento processo de abertura. As medidas liberalizantes que aos poucos fizeram o país retornar a uma democracia foram comandadas

- a) pelos estudantes universitários, lutando pela reorganização de suas entidades.
- b) pelos sindicatos de trabalhadores em busca de melhores condições de vida e trabalho.
- c) pelas autoridades militares, buscando promover uma transição sem revanchismos.
- d) pelos políticos do MDB, exercendo sua função de partido de oposição ao governo.
- e) pelo empresariado nacional, contrário à política econômica praticada pelos militares.

## 27 Geografia Meio ambiente

Ano: 2014 Banca: VUNESP Órgão: PM-SPProva: Soldado da Polícia Militar

Considere as seguintes situações:

- caça ou pesca predatória;
- derrubada de florestas e campos para retirada de madeira, cultivos ou pastagens;
- construção de estradas e reservatórios de hidrelétricas;
- expansão urbana.

Essas situações, isoladamente ou combinadas, podem trazer como consequência

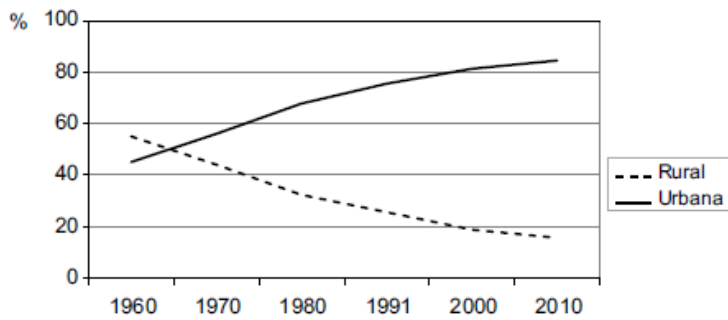
- a) o aumento da diversidade biológica.
- b) o aparecimento de espécies vegetais de grande porte.
- c) a substituição de solos naturais por artificiais.
- d) a redução ou a degradação da biodiversidade.
- e) a diminuição de espécies exóticas, isto é, não nativas.

## 28 Geografia População

Ano: 2014 Banca: VUNESP Órgão: PM-SPProva: Soldado da Polícia Militar

Analise o gráfico para responder à questão.

Brasil: Evolução da população rural e urbana (%)



(<http://www.censo2010.ibge.gov.br/sinopse/index.php?dados=9&uf=00>)

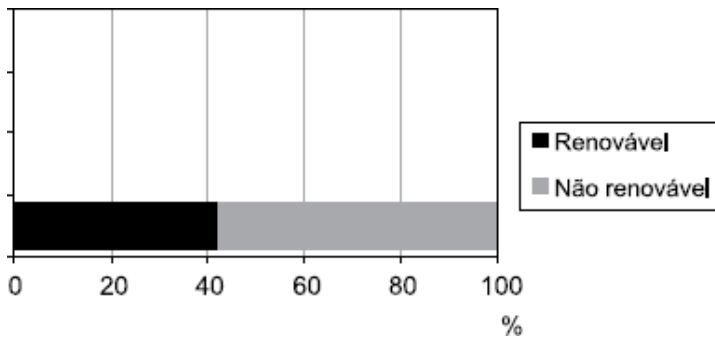
A leitura do gráfico e os conhecimentos sobre a dinâmica demográfica brasileira permitem afirmar que, percentualmente, a população

- urbana teve maior crescimento entre os anos de 1960 e 1980.
- rural se concentrou nas áreas mais afastadas do litoral a partir de 1970.
- urbana diminuiu o crescimento a partir de 1991 devido às migrações.
- urbana manteve-se estável entre os anos de 1991 e 2010.
- rural deixou de apresentar declínio a partir do ano 2000.

## 29 Geografia Produção e consumo no Brasil

Ano: 2014 Banca: VUNESP Órgão: PM-SPProva: Soldado da Polícia Militar

A questão está relacionada ao gráfico a seguir. Brasil:  
Repartição da oferta interna de energia (2012)



([https://ben.epe.gov.br/downloads/S%C3%ADntese%20do%20Relat%C3%B3rio%20Final\\_2013\\_Web.pdf](https://ben.epe.gov.br/downloads/S%C3%ADntese%20do%20Relat%C3%B3rio%20Final_2013_Web.pdf))

A partir da leitura do gráfico e dos conhecimentos sobre as fontes de energia no Brasil, assinale a alternativa que apresenta uma conclusão correta.

- O Brasil apresenta uma matriz energética fortemente poluidora, fato que recebe críticas de ambientalistas.
- Entre as fontes de energia não renováveis, encontra-se o carvão vegetal, que tem se reduzido de forma rápida.
- Parte considerável da energia renovável, no Brasil, tem origem nas hidrelétricas e na produção do etanol.
- Os percentuais semelhantes entre energia renovável e não renovável impedem o Brasil de ter uma energia limpa.
- O petróleo e o carvão mineral importados não são computados no conjunto das energias não renováveis.

## 30 História História Geral

Ano: 2014 Banca: VUNESP Órgão: PM-SPProva: Soldado da Polícia Militar

Analise a imagem a seguir, referente ao período da 2.ª Guerra Mundial (1939-1945).



Uma pedra na estrada  
23-10-1942

(Belmonte. Caricatura através dos tempos. São Paulo: Melhoramentos, 1982)

Considerando o contexto da guerra, assinale a alternativa que melhor expressa o significado da imagem.

- a) Expressa a resistência da população de Stalingrado em aderir ao nazismo, conforme o restante do país já havia feito.
- b) Demonstra a habilidade do exército nazista alemão em remover os obstáculos que impediam seu avanço.
- c) Trata-se da negativa do governo soviético em assinar o acordo de não agressão à Alemanha nazista.
- d) Trata-se de uma sátira às funções subalternas exercidas por Hitler durante a 1.ª Guerra Mundial (1914-1918).
- e) É uma referência à batalha de Stalingrado, a primeira grande derrota do exército da Alemanha nazista.

### 31 História História Geral

Ano: 2014 Banca: VUNESP Órgão: PM-SPP Prova: Soldado da Polícia Militar

A partir do final da 2.ª Guerra Mundial (1945), o mundo viveu o fenômeno da Guerra Fria. O fundamento desta oposição, que opôs Estados Unidos e União Soviética, foi

- a) o rompimento entre o governo comunista chinês, de orientação maoísta, e o governo socialista soviético.
- b) o confronto ideológico, político e econômico entre blocos representantes dos sistemas capitalista e socialista.
- c) a recusa da União Soviética em investir em armamentos, inviabilizando a corrida armamentista contra os Estados Unidos.
- d) o alto nível tecnológico dos soviéticos, responsáveis por um programa espacial que levou o homem à superfície da lua.
- e) a interferência do governo norte-americano na política interna de países do sudeste asiático, como o Vietnã.

### 32 História História do Brasil

Ano: 2014 Banca: VUNESP Órgão: PM-SPP Prova: Soldado da Polícia Militar

Durante a Era Vargas (1930-1945), em relação à Constituição Brasileira, o país viveu a seguinte situação:

- a) Apoiado no fato de ter sido alçado ao poder por meio de um golpe de Estado, Vargas governou durante 15 anos sem uma Constituição.
- b) Ao tomar posse por meio da Revolução de 1930, Vargas declarou inválida a Constituição imperial, em vigor desde 1824.
- c) Para instaurar a ditadura do Estado Novo, iniciada em 1937, Vargas utilizou-se dos recursos dos Atos Institucionais.
- d) A Constituição promulgada em 1934 trazia uma série de inovações, entre elas o voto feminino e uma série de leis trabalhistas.



- e) Por intermédio da Revolução Constitucionalista de 1932, as oligarquias paulistas lutaram pela anulação da Constituição de 1930.

### 33 História História do Brasil

Ano: 2014 Banca: VUNESP Órgão: PM-SPProva: Soldado da Polícia Militar

A economia vai bem, mas o povo vai mal.  
(Revista Visão, página 47, 1974)

A frase proferida, segundo fontes da época, pelo então presidente Emílio Garrastazu Médici, fazia referência

- a) à vinda das multinacionais norte-americanas para o país, aumentando a oferta de empregos, cujas vagas não foram preenchidas pela escassez de trabalhadores com qualificação para ocupar os cargos oferecidos
- b) ao saneamento econômico do país, que permitiu a construção de obras como a Rodovia Transamazônica que, no entanto, comprometeram a saúde dos trabalhadores pelas condições de trabalho na floresta.
- c) ao crescimento econômico do país, bastante significativo em função do chamado "milagre brasileiro", e à acentuação da desigualdade social em função da brutal concentração de renda.
- d) à tentativa de controle da inflação por meio da implantação de um novo padrão monetário, o Cruzeiro, objetivo não atingido pelo motivo de a nova moeda gerar um aumento do consumo pela população.
- e) aos esforços do governo militar no sentido de buscar a autonomia industrial e tecnológica do país, em oposição aos desejos da maior parte da população, favorável à entrada de capital estrangeiro.

### 34 História História do Brasil

Ano: 2014 Banca: VUNESP Órgão: PM-SPProva: Soldado da Polícia Militar

Ao final dos anos 1970 e na primeira metade dos anos 1980, com o processo de abertura política em andamento, duas campanhas contaram com expressiva participação da população brasileira. Os objetivos delas eram, respectivamente,

- a) a anistia política e o estabelecimento de eleições diretas para a presidência da república.
- b) o fim da censura prévia aos meios de comunicação e o combate à corrupção.
- c) a convocação de uma assembleia constituinte e o controle da inflação.
- d) o estabelecimento da pena de morte para os torturadores e o fim do AI-5.
- e) o fim das torturas e o retorno da liberdade de associação sindical.

### 35 Geografia Meio ambiente

Ano: 2014 Banca: VUNESP Órgão: PM-SPProva: Soldado da Polícia Militar

O impacto do aquecimento global será "grave, abrangente e irreversível", segundo um relatório do Painel Intergovernamental sobre Mudanças Climáticas da ONU (IPCC, na sigla em inglês) divulgado em (31/03/2014). ([http://www.bbc.co.uk/portuguese/noticias/2014/03/140331\\_ipcc\\_relatorio\\_dg.shtml](http://www.bbc.co.uk/portuguese/noticias/2014/03/140331_ipcc_relatorio_dg.shtml). Adaptado)  
Um dos impactos mais conhecidos e temidos do aquecimento global é

- a) extinção da biodiversidade em áreas como o Saara devido ao aumento da temperatura.
- b) o desaparecimento dos fenômenos La Niña e El Niño no oceano Atlântico.
- c) a diminuição de mares costeiros como o mar das Antilhas e o Mediterrâneo.
- d) o aumento de espécies aquáticas predadoras devido à alta temperatura das águas.
- e) a elevação do nível dos oceanos devido ao derretimento das calotas polares.

### 36 Geografia Geografia Econômica

Ano: 2014 Banca: VUNESP Órgão: PM-SPP Prova: Soldado da Polícia Militar

Em entrevista a jornais europeus, o diretor-geral da Organização Mundial do Comércio (OMC) alertou que "problemas geopolíticos representam um elemento de incerteza no crescimento do comércio internacional no ano de 2014".

Um dos problemas geopolíticos mais destacados na atualidade é

- a) a questão territorial entre a Ucrânia e a Rússia.
- b) a aproximação entre grupos islâmicos do Oriente Médio.
- c) o conflito civil entre países do norte africano.
- d) a disputa territorial entre a Índia e o Afeganistão.
- e) o conflito étnico-religioso de grupos do sul da Ásia.

### 37 Geografia Geografia Física

Ano: 2014 Banca: VUNESP Órgão: PM-SPP Prova: Soldado da Polícia Militar

Esta vegetação brasileira cobre cerca de 25% do território nacional. Nesse espaço territorial, encontram-se as nascentes das três maiores bacias hidrográficas da América do Sul (Amazônica/Tocantins, São Francisco e Prata), o que resulta numa grande disponibilidade de recursos hídricos. É um dos tipos de vegetação brasileira que mais sofreu alterações com a ocupação humana, principalmente com a abertura de novas áreas, para a produção de carne e grãos para exportação.

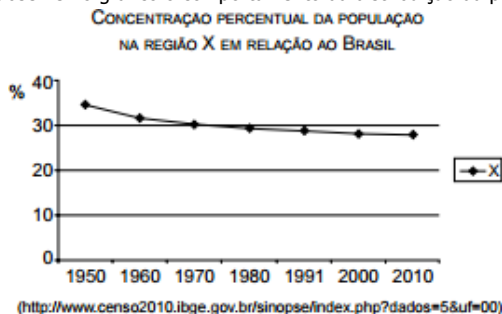
O texto refere-se

- a) à caatinga.
- b) ao cerrado.
- c) aos pampas.
- d) ao Pantanal.
- e) à floresta amazônica.

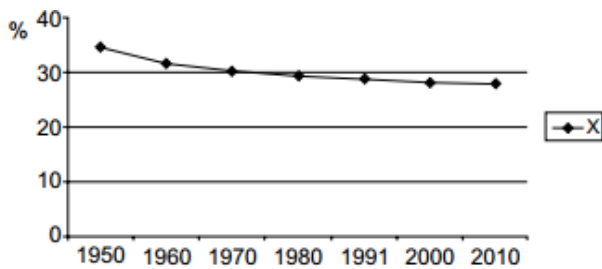
### 38 Geografia População

Ano: 2014 Banca: VUNESP Órgão: PM-SPP Prova: Soldado da Polícia Militar

Desde a década de 1950, a região Sudeste mantém-se como a mais populosa do Brasil, concentrando mais de 40% da população brasileira. Observe no gráfico o comportamento da distribuição da população em uma outra região brasileira.



Desde a década de 1950, a região Sudeste mantém-se como a mais populosa do Brasil, concentrando mais de 40% da população brasileira. Observe no gráfico o comportamento da distribuição da população em uma outra região brasileira.



(<http://www.censo2010.ibge.gov.br/sinopse/index.php?dados=5&uf=00>)

A leitura do gráfico e os conhecimentos sobre a dinâmica da população brasileira permitem afirmar que a região representada é o

- Nordeste, que deixou de ser a região mais populosa quando foram implantadas políticas de planejamento familiar e controle de natalidade.
- Centro-Oeste, que apresentou forte migração da população depois que a pecuária, que predominava na região, foi substituída pela agricultura mecanizada.
- Sul, que teve redução do seu total demográfico durante a segunda metade do século XX, período em que a população reduziu a taxa de natalidade.
- Nordeste, que diminuiu sua participação no conjunto demográfico brasileiro devido à saída de migrantes em direção às outras regiões durante várias décadas.
- Sul, que teve redução do contingente populacional devido às ondas migratórias em direção à Amazônia, sobretudo para o Acre e o Amapá.

### 39 Geografia População

Ano: 2014 Banca: VUNESP Órgão: PM-SPProva: Soldado da Polícia Militar

questão está relacionada ao mapa apresentado a seguir.

DISTRIBUIÇÃO DOS AGLOMERADOS SUBNORMAIS\* NO BRASIL



([http://www.ibge.gov.br/home/presidencia/noticias/imprensa/ppts/00000015164811202013480105748802.pdf?aglomerados subnormais](http://www.ibge.gov.br/home/presidencia/noticias/imprensa/ppts/00000015164811202013480105748802.pdf?aglomerados%20subnormais))

\* Denominação dada pelo IBGE às favelas e outras moradias construídas em áreas irregulares e carentes de infraestrutura.

Da leitura do mapa, pode-se afirmar que os aglomerados subnormais

- predominam nas cidades com menos de 50 mil habitantes.
- são característicos apenas das metrópoles brasileiras.
- têm maior concentração na região mais populosa do Brasil.
- são menos concentrados nos estados de urbanização mais antiga.
- são mais comuns em áreas pouco industrializadas.

### 40 História História Geral

Ano: 2014 Banca: VUNESP Órgão: PM-SPProva: Soldado da Polícia

Sobre a Primeira Guerra Mundial é correto afirmar que

- a) envolveu interesses isolados da Alemanha com relação ao comércio de armas na África.
- b) o Brasil não teve nenhuma participação, ao contrário do ocorrido na Segunda Grande Guerra.
- c) ficou assim conhecida por ter sido a primeira guerra européia nos últimos dois séculos.
- d) contou com a participação efetiva dos EUA no seu desfecho já no início dos anos 20.
- e) foi fruto, dentre outros fatores, do revanchismo francês em relação à Alemanha.

#### 41 História História Geral

Ano: 2014 Banca: VUNESP Órgão: PM-SPProva: Soldado da Polícia Militar

BETA

"[...] o sistema da Guerra Fria é altamente funcional para as superpotências, e é por isso que ele persiste, apesar da probabilidade de mútua aniquilação [...]"  
(Noam Chomsky, "Armas estratégicas, Guerra Fria e Terceiro Mundo", in E. Thompson, Exterminismo e Guerra Fria)

Tendo por base o texto apresentado, assinale a alternativa correta a respeito da Guerra Fria.

- a) Teve início no nazifascismo durante a Segunda Guerra Mundial, o que explica sua permanência.
- b) Foi usada pelos EUA e pela antiga URSS como meio de valorizar sua superioridade militar em relação a outros países.
- c) Ficou assim conhecida por envolver interesses exclusivos dos países do hemisfério Norte, mesmo durante a Globalização.
- d) Colocou em confronto direto a Alemanha e a Inglaterra por um período de mais de 20 anos.
- e) Atingiu o seu momento mais intenso com a extinção da OTAN e o início da Guerra da Coreia.

#### 42 História História do Brasil

Ano: 2014 Banca: VUNESP Órgão: PM-SPProva: Soldado da Polícia Militar

A Revolução de 1930 promoveu transformações significativas na história do Brasil. Sobre a Revolução de 1930, pode-se afirmar corretamente que

- a) resultou de disputas por terras entre camponeses e pecuaristas no nordeste brasileiro.
- b) propiciou o restabelecimento de relações diplomáticas com os Estados Unidos da América.
- c) representou os grupos sociais interessados em elaborar uma nova Constituição.
- d) originou o período da história brasileira conhecido como a Era Vargas.
- e) foi financiada com recursos oriundos da economia da cana-de-açúcar.

#### 43 História História do Brasil

Ano: 2014 Banca: VUNESP Órgão: PM-SPProva: Soldado da Polícia Militar

Pode-se afirmar sobre as Constituições Republicanas Brasileiras que

- a) devido à participação do Brasil na Segunda Guerra Mundial, o governo instituiu uma Constituição antidemocrática em 1946.
- b) o estado de São Paulo opôs-se, por meio da Revolução de 1932, à redação e à votação de uma Constituição que atendesse aos interesses dos cafeicultores.

- c) o governo militar promulgou uma nova Constituição brasileira no ano de 1967, embora continuasse a decretar atos institucionais.
- d) houve um projeto de Constituição em 1891 que foi suspenso e inviabilizado em virtude dos conflitos sociais provocados pela proclamação da República.
- e) a Constituição de 1988 perdeu sua condição de Carta Magna como consequência do número de emendas que lhe foram impostas no processo de redemocratização do país.

#### 44 História História do Brasil

Ano: 2014 Banca: VUNESP Órgão: PM-SPP Prova: Soldado da Polícia Militar

"Os restos mortais do ex-presidente da República João Goulart começaram a ser exumados nesta quarta-feira, em São Borja, a 594 quilômetros de Porto Alegre (RS). Os exames fazem parte dos esforços da Comissão Nacional da Verdade (CNV) para determinar se Jango foi ou não assassinado durante a ditadura militar."

(Jornal do Brasil, 13 de novembro de 2013)

A respeito da conjuntura política do período histórico citado no texto, é correto afirmar que João Goulart

- a) rompeu com a política de Getúlio Vargas angariando apoio de seus adversários.
- b) foi populista e garantiu aproximação com a Esquerda por meio das suas Reformas de Base.
- c) teve seu governo fortalecido pelo regime parlamentarista em vigor naquele período.
- d) representou integralmente os interesses das elites conservadoras.
- e) iniciou as edições dos atos institucionais visando combater o avanço da Esquerda no Brasil.

#### 45 Geografia Meio ambiente

Ano: 2014 Banca: VUNESP Órgão: PM-SPP Prova: Soldado da Polícia Militar

Para responder à questão, considere o mapa, onde são destacados dois problemas ambientais.



(<http://ambienteecologia.blogspot.com.br>. Adaptado)

As áreas indicadas com os algarismos I e II apresentam problemas ambientais relacionados, respectivamente.

- a) à desertificação e à contaminação de rios e lagos.
- b) à chuva ácida e à erosão dos solos.
- c) à erosão dos solos e ao desmatamento.
- d) ao desmatamento e à chuva ácida.
- e) à contaminação de rios e lagos e à desertificação.

#### 46 Geografia Geografia Econômica

Ano: 2014 Banca: VUNESP Órgão: PM-SPP Prova: Soldado da Polícia Militar

Em novembro de 2013, a União Européia completou 20 anos de existência imersa na maior crise de sua história. Passadas duas décadas, o processo de união monetária do bloco está sendo questionado.

(<http://operamundi.uol.com.br>. Adaptado)

Entre os motivos da crise da União Européia, pode-se citar

- a) as altas taxas de desemprego, principalmente em países como a Grécia e a Espanha.
- b) o abandono do uso do Euro como moeda por parte do Reino Unido e da Itália.
- c) a intenção de alguns membros, como a França, em fazer acordo comercial com os Estados Unidos.
- d) o bloqueio dos países ricos à entrada de membros com menos potencial, como Portugal e Polônia.
- e) a tensão política com a ameaça da Alemanha e da Itália de se retirarem do bloco.

#### 47 Geografia Geografia Física

Ano: 2014 Banca: VUNESP Órgão: PM-SPProva: Soldado da Polícia Militar

Analise o mapa para responder à questão.



(Disponível em: <http://educacao.uol.com.br>. Adaptado)

Assinale a alternativa que apresenta corretamente características econômicas da bacia hidrográfica destacada no mapa.

- a) A área da bacia do Tietê se destaca pelas atividades extrativas vegetais e pelos importantes centros industriais cuja produção é voltada para a exportação.
- b) A área da bacia dos rios Grande e Paranaíba destaca-se pela pecuária, que produz carne para exportação, e abriga fazendas dedicadas à monocultura da soja.
- c) A área da bacia do Paranaíba do Sul ocupa terras que produzem café e, recentemente, cana-de-açúcar que abastece várias usinas.
- d) A área da bacia do Ribeira de Iguape abriga importantes centros urbanos e inúmeras agroindústrias que transformam a laranja em suco para exportação.
- e) A área da bacia do Paraná se destaca pelo elevado grau de modernização de cultivos como a soja e a cana-de-açúcar e, também, pela pecuária.

#### 48 Geografia População

Ano: 2014 Banca: VUNESP Órgão: PM-SPProva: Soldado da Polícia Militar

Analise a tabela para responder à questão.

BRASIL: TAXA DE FECUNDIDADE*			
1950	1970	1991	2010
6,21	5,76	2,89	1,90

(<http://vamoscontar.ibge.gov.br>. Adaptado)

\* número médio de filhos tidos nascidos vivos por mulher ao final de seu período fértil  
A leitura da tabela e os conhecimentos sobre a população brasileira permitem afirmar que

- o declínio da fecundidade, entre as décadas de 1950 e 1970, ocorreu devido às campanhas de controle de natalidade desenvolvidas pelo Estado.
- um dos fatores que contribuíram para a queda da fecundidade no período estudado foi a maior participação da mulher no mercado de trabalho.
- as migrações da cidade para o campo tiveram grande influência sobre a queda da fecundidade observada entre os anos de 1970 e 1991.
- apesar da contínua queda da fecundidade entre 1950 e 2010, a estrutura etária da população permaneceu com predomínio de crianças e jovens.
- a fecundidade teve variações no tempo e no espaço, pois os estados mais populosos são os que apresentam taxas mais elevadas.

#### 49 Geografia Fontes de energia e recursos naturais

Ano: 2014 Banca: VUNESP Órgão: PM-SPProva: Soldado da Polícia Militar

Com preço mais baixo, o grande potencial brasileiro finalmente começa a sair do papel. Projeção da EPE (Empresa de Pesquisa Energética) aponta que a capacidade instalada das usinas crescerá 320% ao longo desta década.

Calcula-se que haja potencial para instalar até 300 mil MW de usinas. "O crescimento desse tipo de energia renovável é um processo irreversível".

(<http://www1.folha.uol.com.br>. Adaptado)

O texto refere-se à energia

- termelétrica.
- do xisto betuminoso.
- nuclear.
- eólica.
- do gás natural.

#### 50 História História Geral

Ano: 2013 Banca: VUNESP Órgão: PM-SPProva: Soldado da Polícia Militar

O fascismo se afirmou onde estava em curso uma crise econômica (inflação, desemprego, carestia etc.), ou onde ela não tinha sido completamente superada, assim como estava em curso uma crise do sistema parlamentar, o que reforçava a ideia de uma falta de alternativas válidas de governo.

(Renzo De Felice. O fascismo como problema interpretativo, In. A Itália de Mussolini e a origem do fascismo. São Paulo: Ícone Editora, 1988, p 78-79. Adaptado)

Interpretando-se o texto, pode-se afirmar que os regimes fascistas, característicos de alguns países europeus no período entre as duas guerras mundiais, foram estabelecidos em um quadro histórico de:

- abolição das economias nacionais devido à fusão de indústrias e de empresas capitalistas em escala global.
- criação de blocos econômicos internacionais com a participação dos países de economia socialista.
- dificuldades econômicas conjugadas com a descrença na capacidade de sua solução pelos meios democráticos.

- d) independência das colônias africanas devido ao desequilíbrio provocado pelas revoluções nacionalistas.
- e) enfraquecimento do Estado na maioria das nações devido ao controle da economia pelos trabalhadores.

## 51 História História Geral

Ano: 2013 Banca: VUNESP Órgão: PM-SPProva: Soldado da Polícia Militar

Os dois lados viram-se comprometidos com uma insana corrida armamentista para a mútua destruição. Os dois também se viram comprometidos com o que o presidente em fim de mandato, Eisenhower, chamou de "complexo industrial-militar", ou seja, o crescimento cada vez maior de homens e recursos que viviam da preparação da guerra. Mais do que nunca, esse era um interesse estabelecido em tempos de paz estável entre as potências. Como era de se esperar, os dois complexos industrial-militares eram estimulados por seus governos a usar sua capacidade excedente para atrair e armar aliados e clientes, e conquistar lucrativos mercados de exportação, enquanto reservavam apenas para si os armamentos mais atualizados e, claro, suas armas nucleares.

(Eric Hobsbawm. Era dos extremos – O breve século XX – 1914-1991. São Paulo: Cia. das Letras, 1995, p. 233. Adaptado)

O historiador refere-se à situação da política internacional que resultou, em grande medida, da Segunda Guerra Mundial, e que pode ser definida como a:

- a) democratização do uso de armas nucleares, o que tornou possível o seu emprego por pequenos grupos de guerrilheiros.
- b) existência de equilíbrio nuclear entre as maiores potências, somada à grande corrida armamentista.
- c) expansão da ideologia da paz armada, que estimulou as potências a equiparem os países pobres com armas nucleares.
- d) predominância de uma potência nuclear em escala global, que interfere militarmente nos países subdesenvolvidos.
- e) formação de uma associação internacional de potências nucleares, que garantiu uma paz duradoura entre os países.

## 52 História História do Brasil

Ano: 2013 Banca: VUNESP Órgão: PM-SPProva: Soldado da Polícia Militar

No final de 1951, o presidente Getúlio Vargas enviou ao Congresso Nacional o projeto de criação da companhia Petróleo Brasileiro S. A. (Petrobras). Em um discurso pronunciado, poucos meses depois, no estado da Bahia, assim se referiu Getúlio Vargas a Petrobras:

A Petrobrasserá o próprio Governo agindo no campo da indústria petrolífera, tal como já o faz na indústria do aço, através da Companhia Siderúrgica Nacional. E isto sem o prejuízo do concurso do capital privado. Mas nem remotamente existe o perigo de que, através da participação do capital privado, venham a agir os grupos financeiros estrangeiros, ou mesmo nacionais. Afastou-se tal perigo, reduzindo o montante de sua participação na sociedade, ficando a União Federal com nunca menos de 51% do total.

(Getúlio Vargas. O governo trabalhista do Brasil. Vol. III. Rio de Janeiro: Livraria José Olympio Editora, 1969, p. 157. Adaptado)

O discurso apresenta uma característica essencial do governo de Getúlio Vargas, que não se limita à fase do governo democrático dos anos cinquenta, que foi a:

- a) procura de formação de blocos econômicos regionais, com a finalidade de resistir ao domínio imperialista.
- b) privatização das empresas estatais, com a venda de ações das grandes indústrias nas bolsas de investimento
- c) liberalização econômica, com a abertura dos mercados nacionais aos capitais financeiros.
- d) política de socialização da economia brasileira, com o controle da produção pelos trabalhadores.



- e) presença estatal em setores estratégicos da economia, com a limitação de investimentos particulares.

### 53 História História do Brasil

Ano: 2013 Banca: VUNESP Órgão: PM-SPProva: Soldado da Polícia Militar

O processo de redemocratização do Brasil avançou em 1979, com a extinção do Ato Institucional número 5 (AI-5) e a anistia política. Ele foi, de certa forma, consolidado, em 1982, com:

- a) a adoção de medidas econômicas liberais.
- b) a criação da Lei de Segurança Nacional.
- c) as eleições diretas para os governos estaduais
- d) a extensão do direito de voto aos analfabetos
- e) a vitória da oposição no Colégio Eleitoral.

### 54 História História do Brasil

Ano: 2013 Banca: VUNESP Órgão: PM-SPProva: Soldado da Polícia Militar

Um dos pontos altos da Constituição é o artigo 5.º, que garante amplas liberdades [...] Foram asseguradas as liberdades de manifestação, opinião e organização. O crime de racismo foi considerado inafiançável e imprescritível...

(Marco Antônio Villa. A história das Constituições brasileiras. São Paulo: Leya, 2011, p. 119)

O texto refere-se a atual Constituição brasileira, promulgada em 1988. Os princípios assegurados pela Constituição.

- a) comprovam a ausência de preconceitos raciais na sociedade brasileira.
- b) garantem à sociedade direitos democráticos, assim como a salvaguarda das diferenças cultural e étnica.
- c) caracterizam o Brasil, desde a independência, como país democrático.
- d) legitimam a liberdade de crença no Brasil, com a união entre Estado e religião.
- e) reconhecem a impossibilidade de implantação da democracia plena no Brasil.

### 55 Geografia Geografia Política

Ano: 2013 Banca: VUNESP Órgão: PM-SPProva: Soldado da Polícia Militar

A questão está relacionada ao mapa do Extremo Oriente asiático apresentado a seguir.



Assinale a alternativa que caracteriza atualmente a área em destaque no mapa.

- As duas Coreias têm apresentado elevado desenvolvimento industrial motivado pelo expressivo crescimento econômico do Japão.
- Com o avanço da globalização, as duas Coreias têm sido pressionadas a se integrarem economicamente à China.
- Trata-se de uma área de forte tensão geopolítica devido às constantes ameaças nucleares norte-coreanas.
- O Japão e a Rússia têm promovido esforços para que a Coreia do Norte se integre à parte Sul formando um único país.
- A China tem pressionado a Coreia do Norte a devolver territórios que pertencem à Coreia do Sul, o que provocam tensões militares.

## 56 Geografia Geografia Econômica

Ano: 2013 Banca: VUNESP Órgão: PM-SPProva: Soldado da Polícia Militar

Os países conhecidos como BRICS já deixaram para trás o status de economias emergentes e precisam ser vistos como uma categoria à parte. Dois BRICS, China e Brasil, já estão entre as sete maiores economias do planeta, com outros dois muito próximos na lista.

Sobre os BRICS, é correto afirmar que:

- a Índia e a Rússia são dois componentes dos BRICS que se destacam mundialmente pelo crescimento econômico e elevado PIB (Produto Interno Bruto).
- o poder econômico desse bloco permite que seus membros deixassem de fazer parte de outros blocos, a exemplo do Brasil que está se retirando do Mercosul.
- a África do Sul e a Indonésia, antigos países formadores do bloco, foram substituídas por China e Rússia que apresentam crescimento econômico mais rápido.
- a capacidade econômica dos BRICS já tem produzido transformações no mundo capitalista, entre elas, a reforma do FMI (Fundo Monetário Internacional)
- os quatro países que o compõem possuem elevada população, um dos fatores determinantes do forte crescimento econômico que apresentam.

## 57 Geografia Meio ambiente

Ano: 2013 Banca: VUNESP Órgão: PM-SPProva: Soldado da Polícia Militar

Considere as seguintes intervenções humanas em uma região brasileira.

I. A expansão de mineradoras que ocasionam desmatamento, contaminação dos solos e surgimento de novas estradas, ferrovias e hidrovias; empreendimentos estes que provocam alterações ambientais.

II. Atividades clandestinas de garimpos de ouro que alteram leitos e margens dos cursos d'água, e contaminam a água destes com mercúrio.

III. Extração ilegal de madeira que causa desflorestamento de extensas áreas e possibilidade de perdas em biodiversidade genética.

IV. Expansão da atividade agropecuária sobre áreas de floresta nativa, logo substituída por extensas glebas para lavoura de soja ou formação de pasto para o gado bovino.

Essas intervenções são frequentes e características da região.

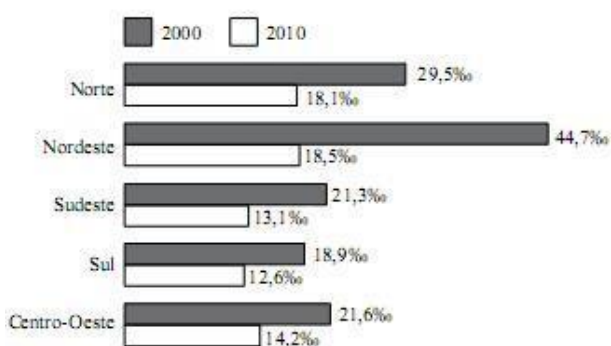
- a) Amazônica.
- b) Centro-Oeste
- c) Pantaneira.
- d) Centro-Sul.
- e) Marajoara.

## 58 Geografia População

Ano: 2013 Banca: VUNESP Órgão: PM-SPProva: Soldado da Polícia Militar

Analise o gráfico para responder à questão.

TAXA DE MORTALIDADE INFANTIL, SEGUNDO AS GRANDES REGIÕES



Após a análise do gráfico, é correto afirmar que, entre os anos de 2000 e 2010, a região.

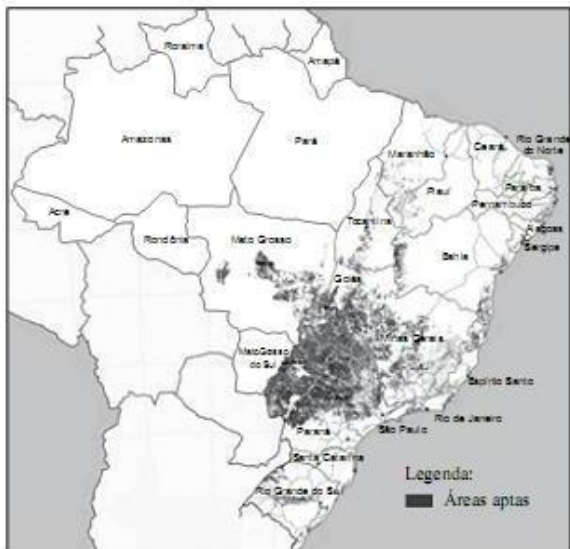
- a) Sudeste manteve a menor mortalidade infantil do país.
- b) Norte ultrapassou a média de mortalidade infantil da região Sul.
- c) Nordeste apresentou o maior recuo na mortalidade infantil.
- d) Centro-Oeste manteve a mortalidade infantil mais elevada do que a região Norte.
- e) Sul apresentou recuo da mortalidade infantil maior do que a região Nordeste.

## 59 Geografia Agropecuária

Ano: 2013 Banca: VUNESP Órgão: PM-SPProva: Soldado da Polícia Militar

A questão está relacionada com o mapa apresentado a seguir.

MAPA DO BRASIL COM AS ÁREAS APTAS PARA O PLANTIO DA CANA-DE-AÇÚCAR, SEGUNDO O ZONEAMENTO AGROECOLÓGICO ELABORADO PELA EMBRAPA



Sobre as áreas aptas para a cultura canavieira, é correto afirmar que:

- a) apresentam grande deficiência de água.
- b) são extensas planícies inundáveis nos meses chuvosos
- c) mantiveram as paisagens vegetais inalteradas.
- d) apresentam predomínio de clima semiárido.
- e) eram originalmente recobertas por florestas e cerrado.

## 60 História História Geral

Ano: 2012 Banca: VUNESP Órgão: PM-SPProva: Soldado da Polícia Militar

Leia a notícia,

Um jovem preso por planejar um massacre contra alunos da Universidade de Brasília (UnB) é suspeito de atuar como representante de grupos neonazistas no Distrito Federal. A Polícia Federal (PF) investiga a ligação de Marcelo Valle Silveira Mello, 26 anos, com radicais da Região Sul que pregam o ódio a negros, homossexuais e judeus.

(<http://www.corr-eiobraz.iliense.com.br> Acesso em 14.05.2012. Adaptado)

Prática como essa tem como modelo o regime nazista (1933-45), que defendia

- a) o pluripartidarismo e a expansão militar.
- b) a xenofobia e o intemacionalismo.
- c) a democracia e o irracionalismo.
- d) o nacionalismo e a intolerância.
- e) a guerra e a diversidade cultural.

## 61 História História Geral

Ano: 2012 Banca: VUNESP Órgão: PM-SPProva: Soldado da Polícia Militar

Podem ser apontados como motivos da Primeira Guerra Mundial, ocorrida entre 1914 e 1918.

- a) o nacionalismo europeu e a disputa por territórios entre as potências europeias.
- b) o crescimento industrial alemão e a invasão da Polônia pelos nazifascistas.
- c) o enfraquecimento econômico inglês e a ameaça russa aos interesses franceses.
- d) a resistência europeia ao domínio francês e o progresso tecnológico europeu.
- e) a corrida armamentista europeia e o revanchismo francês contra a Inglaterra.

## 62 História História do Brasil

Ano: 2012 Banca: VUNESP Órgão: PM-SPProva: Soldado da Polícia Militar

Observe o cartaz produzido em 1943 pelo Departamento de Imprensa e Propaganda (DIP), no período do Estado Novo.



(Dipity.com)

A partir dele, pode-se afirmar que o presidente Getúlio Vargas

- a) era o protetor dos trabalhadores, que foram proibidos de participar de sindicatos.
- b) organizava os trabalhadores em sindicatos, estimulando greves e manifestações.
- c) extinguiu os sindicatos, mas criou leis sociais que amparavam os operários.
- d) retomou as leis trabalhistas que haviam sido extintas durante a República Velha.
- e) apresentava as leis sociais como doação do Estado aos trabalhadores.

## 63 História História do Brasil

Ano: 2012 Banca: VUNESP Órgão: PM-SPProva: Soldado da Polícia Militar

Observe a charge do cartunista Ziraldo,

# Aí, O AI-5



(mestresdahistoria.blogspot.com)

A charge está relacionada com a medida tomada pelo regime militar, em 1968, contra os movimentos sociais, promovendo a

- a) extinção de todos os partidos e o fim das eleições para presidente.
- b) revisão da constituição brasileira e a cassação do presidente.
- c) perseguição a opositores do governo e a cassação de direitos.
- d) prisão de opositores do governo e a troca de militares por civis.
- e) reabertura do Congresso Nacional e a adoção de um só partido.

## 64 História História do Brasil

Ano: 2012 Banca: VUNESP Órgão: PM-SPP Prova: Soldado da Polícia Militar

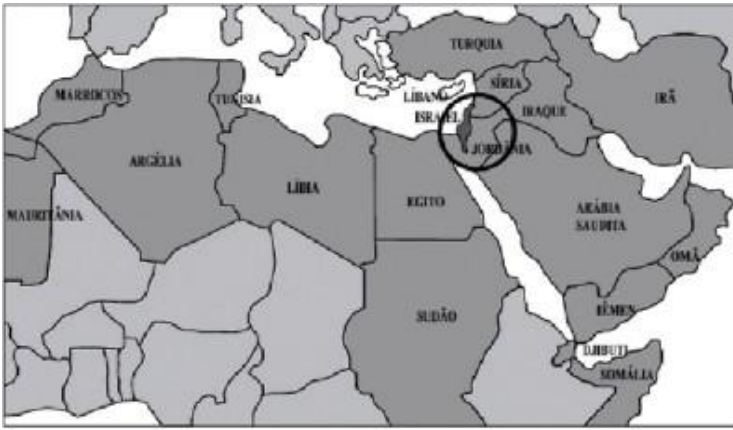
A Constituição de 1988 foi nomeada "Constituição Cidadã" pelo então deputado Ulisses Guimarães. Essa expressão significou que

- a) a Constituição nomeou o deputado Tancredo Neves como presidente, redemocratizando o País.
- b) a democracia foi retomada, pois a Constituição defendia direitos e as eleições diretas para presidente.
- c) o governo Collor chegaria ao fim, pois a Constituição determinava o impeachment do presidente.
- d) a legislação trabalhista e o voto universal constavam em uma Constituição pela primeira vez no Brasil.
- e) o partido MDB, juntamente com a ARENA, elaborou uma constituição democrática, sem submeter-se ao presidente.

## 65 Geografia Geografia Política

Ano: 2012 Banca: VUNESP Órgão: PM-SPP Prova: Soldado da Polícia Militar

A questão está relacionada ao mapa e às afirmações a seguir.



(<http://profgaspardeSouza.blogspot.com.br/>)

- I. A região apresenta grande importância geopolítica pelo fato de se manter sem conflitos ou lutas pelo poder.
- II. Em grande parte dos países da região predomina a cultura árabe e a religião muçulmana.
- III. Entre os países da região, um deles foi criado no pós-Segunda Guerra, fato que gerou insatisfação entre os demais.

Está correto somente o que se afirma em

- a) I.
- b) I e II.
- c) I e III.
- d) II.
- e) II e III.

#### 66 Geografia Fontes de energia e recursos naturais

Ano: 2012 Banca: VUNESP Órgão: PM-SPProva: Soldado da Polícia Militar

A partir das últimas décadas, a questão ambiental tornou-se uma preocupação mundial. A grande maioria das nações do mundo reconhece a urgência em buscar soluções para os problemas ambientais ou mesmo para reduzir ou eliminar fatores que podem contribuir para gerar impactos, tais como

- a) a redução do transporte ferroviário devido a poluição que provoca.
- b) a proibição de lançamento de novos satélites de comunicação.
- c) a intenção de substituir a energia nuclear por fontes de energia alternativas.
- d) a expansão de cultivos transgênicos que reduzem as pragas nas lavouras.
- e) o estímulo ao povoamento da Antártida como forma de controle ambiental.

#### 67 Geografia Geografia Física

Ano: 2012 Banca: VUNESP Órgão: PM-SPProva: Soldado da Polícia Militar

A questão está relacionada ao mapa a seguir

## BRASIL: BACIAS HIDROGRÁFICAS



(<http://mapas.mma.gov.br>)

Nesta bacia foram construídas várias usinas hidrelétricas em seu rio principal que apresenta um pequeno trecho navegável. Uma das características marcantes dessa bacia é apresentar parte de sua área sob o domínio do clima semiárido.

O texto refere-se à bacia indicada no mapa com o número

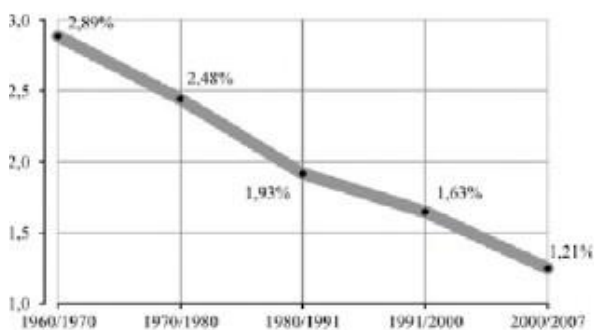
- a) 2.
- b) 4.
- c) 5.
- d) 6.
- e) 7.

## 68 Geografia População

Ano: 2012 Banca: VUNESP Órgão: PM-SPProva: Soldado da Polícia Militar

A questão está relacionada ao gráfico a seguir

### CRESCIMENTO NATURAL DA POPULAÇÃO DO BRASIL 1960-2007



(Metodologia das estimativas das populações residentes nos municípios brasileiros para 1.º de julho de 2008.  
Rio de Janeiro: IBGE, 2008)

A leitura do gráfico permite concluir que o crescimento natural da população brasileira

- a) teve sua maior redução entre 1960 e 1970, para estabilizar-se depois dessa década.
- b) esteve em permanente declínio ao longo da segunda metade do século XX.
- c) apresentou pequena queda devido às crises econômicas das décadas de 1980 e 2000.



- d) teve pequena redução quando comparado aos outros países sul-americanos.
- e) manteve-se elevado, indicando que a população continua predominantemente jovem.

## 69 Geografia Agropecuária

Ano: 2012 Banca: VUNESP Órgão: PM-SPProva: Soldado da Polícia Militar

Nos últimos 20 anos, os níveis tecnológicos alcançados pelos produtores rurais brasileiros atingiram patamares expressivos que podem ser mensurados pelo aumento da produtividade no campo. Isso explica, por exemplo, o fato de o Brasil ter conseguido dobrar a produção de grãos com a mesma área plantada.

Hoje o agronegócio, entendido como a soma dos setores produtivos com os de processamento do produto final e os de fabricação de insumos, responde por quase um terço do PIB do Brasil e por valor semelhante das exportações totais do país.

(<http://www.uff.br/> Adaptado)

- I. A soja foi uma das principais responsáveis pelo crescimento do agronegócio no país.
- II. O crescimento das atividades no campo só foi possível graças à redistribuição das terras que deixaram de ser concentradas.
- III. As propriedades familiares que cultivaram cana-de-açúcar foram as que apresentaram maior nível de rentabilidade no campo brasileiro.

Com relação ao texto, está correto o contido apenas em

- a) I.
- b) I e II.
- c) I e III.
- d) II.
- e) II e III.

## 70 História História Geral

Ano: 2012 Banca: VUNESP Órgão: PM-SPProva: Soldado da Polícia Militar

A Europa dos séculos XI-XIII vivera uma fase de expansão. Ao atingir seus limites, essa expansão provocou uma crise generalizada (...).

Tais crises refletiam uma readaptação. Passada a época virulenta, o Ocidente europeu voltou a crescer. (...) O Mediterrâneo se tornava insuficiente para suas ambições: a Europa descobre o Atlântico e busca nele novos horizontes.

(Hilário Franco Jr. e Ruy Andrade Filho, Atlas de História Geral)

Nesse contexto europeu, na passagem para a Idade Moderna,

- a) proletariado dominou as áreas rurais
- b) as atividades comerciais cresceram.
- c) o absolutismo monárquico acabou.
- d) as moedas pararam de circular
- e) a Igreja católica perdeu totalmente o poder.

## 71 História História Geral

Ano: 2012 Banca: VUNESP Órgão: PM-SPProva: Soldado da Polícia Militar

Começava-se a acreditar que a miséria humana era fruto da ignorância, e que somente a razão poderia orientar o pensamento e modificar as condições da vida humana. Essa nova visão de mundo fez surgir, em meados do século XVIII, um novo movimento filosófico. Os filósofos questionaram o poder real, os privilégios da nobreza, a

religião, a economia, a educação, a escravidão, o colonialismo etc., submetendo todas as questões à razão e à crítica.

(Joelza Ester Domingues, História em Documento: imagem e texto. Adaptado)

O texto trata

- a) do Renascimento.
- b) das teorias socialistas.
- c) do Iluminismo
- d) da ideologia anarquista.
- e) do teocentrismo.

## 72 História História Geral

Ano: 2012 Banca: VUNESP Órgão: PM-SPProva: Soldado da Polícia Militar


É característica do regime totalitário nazi-fascista

- a) o nacionalismo extremado.
- b) a defesa dos ideais comunistas.
- c) a liberdade de expressão.
- d) a existência de vários partidos.
- e) o incentivo à democracia.

## 73 História História do Brasil

Ano: 2012 Banca: VUNESP Órgão: PM-SPProva: Soldado da Polícia Militar

Observe a imagem.



(www.brasilliana.usp.br)

A ilustração de Jean-Baptiste Debret pode ser associada, no Brasil colonial,

- a) ao fim da escravidão.
- b) à produção de açúcar.
- c) ao crescimento urbano.
- d) à extração de ouro.
- e) ao trabalho assalariado.

## 74 História História do Brasil

De acordo com a primeira Constituição brasileira, imposta por D. Pedro I em 1824,

- a) os estados tinham grande autonomia.
- b) o poder do imperador era limitado pelo Congresso.
- c) as eleições eram diretas e secretas.
- d) o direito de voto dependia da riqueza do indivíduo.
- e) as leis trabalhistas foram consolidadas.

## 75 História História do Brasil

O presidente João Goulart procurou implementar um programa que incluía reformas gerais na estrutura social e política brasileira. Entre elas estava a concessão do direito de voto aos analfabetos, a extensão dos direitos trabalhistas ao campo e a reforma agrária. (...)

Em nenhum outro momento da história do Brasil as pressões populares haviam sido tão intensas. A política deixava de ser privilégio das elites. A política era jogada nas ruas, quartéis, universidades, fazendas e fábricas. (...)

No entanto, os grupos conservadores também se articularam. Proprietários rurais, grandes empresários, setores das classes médias e militares conspiraram contra o governo.

(Flavio de Campos, Lidia Aguiar, Regina Claro e Renan Miranda, O jogo da história)

O texto refere-se ao(s)

- a) fatores da crise da República Velha.
- b) contexto de implantação do Estado Novo.
- c) motivos do suicídio do presidente.
- d) início do processo de redemocratização.
- e) antecedentes do movimento de 1964.

## 76 Geografia Geografia Econômica

Leia a notícia. Os países que mais vão crescer são os emergentes, como o Brasil, a Rússia, \_\_\_\_\_ e \_\_\_\_\_. Dessa maneira, essa posição vai ser consolidada e a tendência é de que o Brasil se mantenha entre as maiores economias do mundo nos próximos anos.

(<http://economia.uol.com.br/ultimas-noticias/reuters/2011/12/26/brasil-levara-ate-20-anos-para-ter-padroo-europeu-diz-mantega.jhtm>)

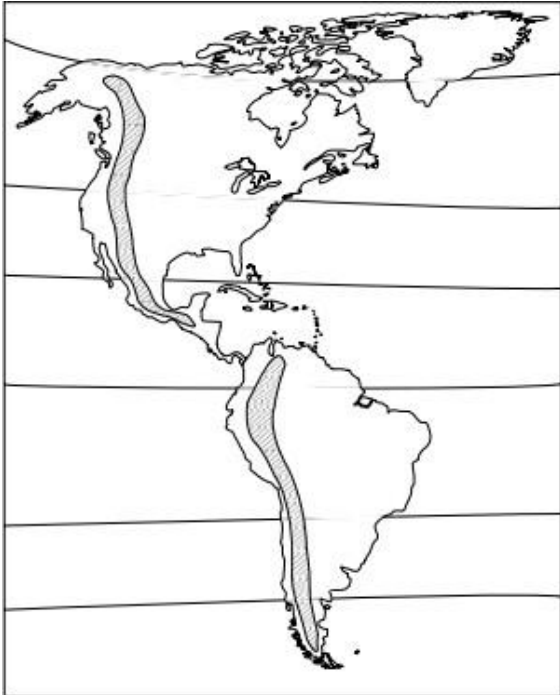
Nas lacunas, devem constar como emergentes

- a) o México e o Paraguai.
- b) o Egito e a França.
- c) a China e a Índia.
- d) a Grécia e Portugal
- e) a Argentina e a Venezuela.

## 77 Geografia Geografia Física

Ano: 2012 Banca: VUNESP Órgão: PM-SPProva: Soldado da Polícia Militar

A questão está relacionada ao mapa do continente americano apresentado a seguir.



As porções destacadas na América do Norte e do Sul têm em comum

- a) o clima equatorial, com chuvas abundantes
- b) a vegetação formada por cactos e plantas espinhosas
- c) as paisagens pantanosas cobertas de vegetação rasteira
- d) as planícies recortadas por vários rios.
- e) as altas montanhas com vários picos cobertos de gelo.

## 78 Geografia População ▶

Ano: 2012 Banca: VUNESP Órgão: PM-SPProva: Soldado da Polícia Militar

Considere as seguintes afirmações sobre as migrações internacionais.

I. Os principais destinos dos emigrantes são os Estados Unidos e países da União Europeia.

II. As principais correntes migratórias têm direção Sul – Sul.

III. Entre os emigrantes, tem aumentado o número de “refugiados” que saem de seu país de origem devido à guerra ou às perseguições políticas.

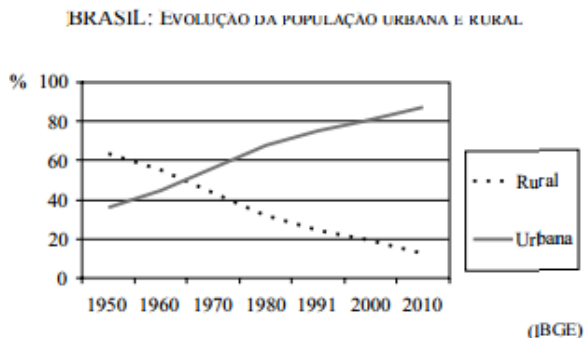
Está correto somente o que se afirma em

- a) I.
- b) II.
- c) I e II.
- d) I e III
- e) II e III.

## 79 Geografia Urbanização

Ano: 2012 Banca: VUNESP Órgão: PM-SPProva: Soldado da Polícia Militar

A questão está relacionada ao gráfico apresentado a seguir.



Assinale a alternativa que interpreta corretamente o gráfico.

- a) A urbanização passou a ter crescimento acentuado a partir da década de 1950, devido, entre outros fatores, ao êxodo rural.
- b) A urbanização foi acelerada até a década de 1970, diminuindo seu ritmo na década seguinte, devido às crises econômicas.
- c) O crescimento da população rural manteve-se constante durante as duas últimas décadas do século XX.
- d) O crescimento urbano foi considerado lento durante o século XX, mas tende a ser rápido no século XXI.
- e) A urbanização ocorreu de modo uniforme em todo o século XX, devido, entre outros fatores, à descentralização industrial.

## 80 Geografia Produção e consumo no Brasil

Ano: 2012 Banca: VUNESP Órgão: PM-SPProva: Soldado da Polícia Militar

Sobre a produção de energia no Brasil, é correto afirmar que

- a) destina-se, principalmente, para o consumo agrícola e doméstico.
- b) é grande a participação dos recursos naturais renováveis
- c) apresentou um crescimento superior a 50% na última década.
- d) sofreu forte queda, devido ao esgotamento das reservas de carvão mineral.
- e) apresenta produção suficiente, que permite a exportação para o Peru.

## 81 Geografia Industrialização

Ano: 2012 Banca: VUNESP Órgão: PM-SPProva: Soldado da Polícia Militar

Analise o mapa a seguir



(IBGE. Atlas Nacional do Brasil. Rio de Janeiro, 2000. p. XVIII-7)

Assinale a alternativa que identifica o fenômeno destacado no mapa.

- a) Concentrações de gado leiteiro.
- b) Principais regiões canaveiras.
- c) Maiores produções de soja.
- d) Áreas industrializadas.
- e) Áreas de exploração mineral.

**82** História História Geral

Ano: 2011 Banca: VUNESP Órgão: PM-SPProva: Soldado da Polícia Militar

Uma das características do feudalismo é

- a) o poder absoluto dos reis.
- b) a agricultura como base da economia.
- c) a sociedade igualitária.
- d) a valorização do homem na cultura.
- e) o desprezo pelo cristianismo.

**83** História História Geral

Ano: 2011 Banca: VUNESP Órgão: PM-SP

A Revolução Francesa (1789)

- a) anulou todas as conquistas do Iluminismo.
- b) reforçou a escravidão nas áreas rurais.
- c) defendeu as teorias anarquistas do clero.
- d) baseou-se nos ideais de liberdade e igualdade.
- e) garantiu ao proletariado o controle do poder.

84 História História Geral

Ano: 2011 Banca: VUNESP Órgão: PM-SPProva: Soldado da Polícia Militar

Do outro lado do planeta, o Japão também procurava aumentar sua área de influência. (...) atacou a China e anexou a Manchúria. Por essa atitude, recebeu uma advertência da Liga das Nações; como resposta, o governo japonês pediu desligamento dessa instituição internacional.

Diante das violações do Tratado de Versalhes pela Alemanha, a França e a Inglaterra (...) adotaram uma política de apaziguamento, com o intuito de evitar o confronto com a Alemanha. A expansão alemã chegou a ser vista por alguns membros da Liga das Nações como positiva, uma vez que poderia ser útil no processo de formar um "cordão sanitário" contra o avanço do comunismo na Europa.

(...) a Itália iniciou a invasão da Etiópia, recebendo o apoio da Alemanha nazista.

(Patrícia Braick e Myriam Mota, História: das cavernas ao terceiro milênio)

O texto trata

- a) das origens da Revolução Industrial.
- b) da queda dos regimes fascistas.
- c) dos antecedentes da Segunda Guerra.
- d) da crise do processo de globalização.
- e) das consequências da Guerra Fria.

85 História História do Brasil

Ano: 2011 Banca: VUNESP Órgão: PM-SPProva: Soldado da Polícia Militar

No Brasil colonial, a mineração

- a) dependeu de investimentos holandeses e franceses.
- b) financiou a construção de ferrovias para transportar o ouro.
- c) empregou apenas indígenas, conhecedores das técnicas.
- d) contribuiu para o povoamento de regiões do interior.
- e) acabou com a exclusividade dos portugueses no comércio.

86 História História do Brasil

Ano: 2011 Banca: VUNESP Órgão: PM-SPProva: Soldado da Polícia Militar

A independência brasileira foi proclamada em 1822 pelo príncipe regente português. Com ela, conquistamos a autonomia política e econômica em relação a Portugal. Contudo, essa mudança não resultou em alterações profundas no modo de organização da vida social brasileira.

(Cabrini, Catelli e Montellato, História temática: terra e propriedade)

Uma justificativa para a afirmação dos autores é a permanência

- a) da escravidão.
- b) do voto universal.
- c) do monopólio comercial.
- d) do governo republicano.
- e) da reforma agrária.

## 87 História História do Brasil

Ano: 2011 Banca: VUNESP Órgão: PM-SPProva: Soldado da Polícia Militar

O Estado Novo, fase do governo de Getúlio Vargas, foi marcado

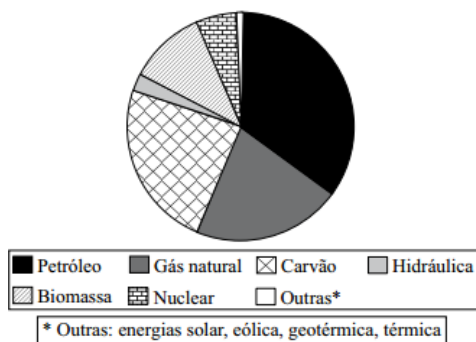
- a) pelo poder dos coronéis e pela autonomia dos sindicatos.
- b) pela liberdade de expressão e pelos ideais democráticos.
- c) pelo auge do setor automobilístico e pelo bipartidarismo.
- d) pela construção de Brasília e pelo poder Legislativo forte.
- e) pelo desenvolvimento industrial e pelas leis trabalhistas.

## 88 Geografia Meio ambiente

Ano: 2011 Banca: VUNESP Órgão: PM-SPProva: Soldado da Polícia Militar

Analise o gráfico a seguir.

MATRIZ ENERGÉTICA MUNDIAL (2009)



(Agência Internacional de Energia)

A leitura do gráfico e os conhecimentos sobre a produção e o consumo de energia permitem afirmar que

- a) o hemisfério Sul concentra as maiores reservas de carvão e de gás natural.
- b) a biomassa é um tipo de energia mais utilizada nos países ricos.
- c) a energia nuclear e a hidráulica são consideradas fontes renováveis.
- d) mais da metade da energia consumida no mundo é do tipo não renovável.
- e) dois terços da energia consumida no mundo é considerada limpa.

## 89 Geografia Globalização



Analise a charge.



(<http://4.bp.blogspot.com>)

Assinale a alternativa que apresenta a mensagem expressa na charge.

- a) No processo de globalização não há lugar para mão de obra pouco qualificada.
- b) A globalização ainda não diminuiu as diferenças socioeconômicas entre a população.
- c) O processo de globalização ainda está restrito aos países mais ricos do mundo.
- d) A globalização é um processo democrático que acolhe toda a população mundial.
- e) O mundo subdesenvolvido passa por um processo lento de globalização.

## 90 Geografia Geografia Econômica

Leia a notícia a seguir.

A Comissão Europeia autorizou ontem a Espanha a barrar a entrada de trabalhadores da Romênia até o fim de 2012, depois de avaliar a "dramática situação" do desemprego no país, que chegou a 21%. É a primeira vez que a União Europeia permite a volta das fronteiras em um caso concreto desde que alguns países do Leste Europeu foram incorporados ao bloco e a livre circulação transformou-se em lei.

(<http://www.estadao.com.br>)

Além da Romênia e da Espanha, também fazem parte da União Europeia:

- a) Suíça e Rússia.
- b) Noruega e Geórgia.
- c) Portugal e Armênia.
- d) Macedônia e Ucrânia.
- e) França e Itália.

## 91 Geografia Geografia Física

Ano: 2011 Banca: VUNESP Órgão: PM-SPProva: Soldado da Polícia Militar

A questão está relacionada à paisagem.

### O PANTANAL



(<http://viajandotranquilo.blogspot.com>)

Analisando a imagem, pode-se afirmar que o Pantanal destaca-se pelo fato de

- a) constituir-se em uma extensa planície.
- b) possuir vários rios que secam parte do ano.
- c) manter-se sem chuvas de 7 a 9 meses do ano
- d) ser recoberto de densa floresta tropical.
- e) apresentar clima equatorial quente e úmido.

## 92 Geografia Cartografia

Ano: 2011 Banca: VUNESP Órgão: PM-SPProva: Soldado da Polícia Militar

A questão está relacionada ao mapa.

### BRASIL: DISTRIBUIÇÃO DAS INDÚSTRIAS DE MATERIAL ELETRÔNICO



(Graça Maria Lemos Ferreira. *Atlas geográfico: espaço mundial*)

A leitura do mapa permite afirmar que a indústria de material eletrônico

- a) encontra-se localizada na fachada litorânea.
- b) está fortemente concentrada na região Sudeste.
- c) é encontrada em apenas três regiões do país.
- d) é característica das grandes metrópoles brasileiras.
- e) apresenta grande dispersão espacial.

### 93 Geografia Meio ambiente

Ano: 2011 Banca: VUNESP Órgão: PM-SPProva: Soldado da Polícia Militar

Considere as seguintes características:

- I. vegetação predominante de floresta equatorial;
  - II. presença de grande número de rios extensos e volumosos;
  - III. recente ocupação através da expansão da fronteira agrícola;
  - IV. envolta em polêmica devido à construção de três usinas hidrelétricas.
- As características apresentadas referem-se à Região

- a) Centro-Oeste.
- b) Nordeste.
- c) Sudeste.
- d) Norte.
- e) Sul.

### 94 História História Geral

Ano: 2011 Banca: VUNESP Órgão: PM-SPProva: Soldado da Polícia Militar

Dentre as consequências da Primeira Guerra Mundial (1914-1918), destaca-se

- a) o início do domínio europeu no continente africano.
- b) a emergência da China como potência econômica mundial.
- c) o surgimento de novos países na Europa.
- d) a bipolarização do mundo entre o bloco liberal e o comunista.
- e) o auge do processo de globalização da economia

### 95 História História Geral

Ano: 2011 Banca: VUNESP Órgão: PM-SPProva: Soldado da Polícia Militar

O grande marco do fim da Guerra Fria foi

- a) a ascensão de regimes nazi-fascistas.
- b) a queda do Muro de Berlim.
- c) o acordo de paz entre as Coreias.
- d) a criação do Estado de Israel.
- e) a recessão derivada da crise do petróleo.

### 96 História História do Brasil

Na economia, a Era Vargas, principalmente durante o Estado Novo, foi marcada

- a) pelo sucesso da reforma agrária e fiscal.
- b) pela ampla abertura às importações.
- c) pela prioridade à agricultura de subsistência.
- d) por medidas nacionalistas e intervencionistas.
- e) pelo abandono do setor urbano-industrial

### 97 História História do Brasil

O golpe militar de 1964 foi justificado por seus executores como intervenção necessária para a defesa da ordem e da democracia - ameaçada, segundo eles, pela agitação de sindicalistas e comunistas. Alguns previam que seria uma intervenção de curta duração. Não foi o que aconteceu. Com o tempo, o que deveria ser provisório tornou-se permanente. Apoiados pelos grupos conservadores da sociedade, as Forças Armadas assumiram totalmente o poder.

(Francisco Teixeira, Brasil: História e Sociedade)

Foram características desse período a

- a) repressão aos opositores e o fortalecimento do poder Executivo.
- b) liberdade de organização partidária e a censura à imprensa, a cargo do DIP
- c) extinção dos partidos políticos e o fechamento do poder Judiciário.
- d) anistia aos guerrilheiros e as eleições diretas para presidente
- e) imposição dos Atos Institucionais e o reforço do poder do Congresso

### 98 História História do Brasil

A Constituição de 1988, chamada de Constituição Cidadã,

- a) inovou com o voto secreto e feminino.
- b) criou as primeiras leis trabalhistas.
- c) estabeleceu o bipartidarismo
- d) instituiu quatro poderes de governo.
- e) ampliou os direitos sociais e políticos.

### 99 Geografia Globalização

Uma das principais características da globalização contém porânea está relacionada ao extraordinário fluxo de capitais que circulam livremente. Diariamente, bilhões de dólares são transferidos de um ponto ao outro do planeta, graças à desregulamentação do mercado pela abertura das fronteiras nacionais. [...] Aplicações e retiradas de capitais são realizadas de forma imediata.

(Fernando Sampaio & Ivone Sucena (coord.), Geografia - Ensino Médio. São Paulo: SM, 2010)

De acordo com o texto, a globalização financeira

- a) impede o aparecimento de crises econômicas.
- b) nivela os países, sejam desenvolvidos ou subdesenvolvidos
- c) integra as bolsas de valores do mundo inteiro.
- d) depende de fatores como produção agrícola e industrial.
- e) promove a descentralização do poder econômico no mundo

100 Geografia      ▶ Geografia Política

Ano: 2011 Banca: VUNESP Órgão: PM-SPProva: Soldado da Polícia Militar

Há uma recomendação da ONU (Organização das Nações Unidas) para que o consumo médio de água seja de 50 litros diários por habitante. Há países em que esse índice não passa de 5 litros.

(Nova escola. Edição especial, maio de 2010)

A escassez de água é um sério problema socioambiental encontrado, principalmente,

- a) no Sul da Ásia.
- b) na África Subsaariana.
- c) no centro da América do Sul.
- d) na América Central insular.
- e) no leste da Ásia.

Gabarito

1-e	54-b
2-c	55-c
3-a	56-a
4-b	57-a
5-d	58-c
6-b	59-e
7-a	60-d
8-a	61-a
9-c	62-e
10-d	63-c
11-e	64-b
12-b	65-e
13-b	66-c
14-c	67-b
15-a	68-b
16-e	69-a
17-d	70-b
18-e	71-c
19-a	72-a
20-c	73-b
21-d	74-d
22-d	75-e
23-b	76-c
24-e	77-e
25-b	78-d
26-c	79-a
27-d	80-b
28-a	81-d
29-c	82-b
30-e	83-d
31-b	84-c
32-d	85-d
33-c	86-a
34-a	87-e
35-e	88-d
36-a	89-b
37-b	90-e
38-d	91-a
39-c	92-b
40-e	93-d
41-b	94-c
42-d	95-b
43-c	96-d
44-b	97-a
45-d	98-e
46-a	99-c
47-e	100-b
48-b	
49-d	
50-c	
51-b	
52-e	
53-c	